

2021年4月17日江苏事业单位考试
《综合知识和能力素质》（管理岗客观题）

公考通网校

www.chinaexam.org



公考通 APP



微信公众平台

2021年4月17日江苏事业单位考试《综合知识和能力素质》（管理岗客观题）（网友回忆版）**一、常识判断。根据题目要求，在四个选项中选出一个最恰当的答案。**

1、在全党开展党史学习教育，是党中央立足党的百年历史新起点、统筹中华民族伟大复兴战略全局和世界百年未有之大变局、为动员全党全国满怀信心投身全面建设社会主义现代化国家而作出的重大决策。关于这一重大决策的目的，下列表述准确的是（ ）。

- ①用党的奋斗历程和伟大成就鼓舞斗志、明确方向
- ②用党的光荣传统和优良作风坚定信念、凝聚力量
- ③用党的实践创造和历史经验启迪智慧、砥砺品格
- ④用党的红色基因和革命理论培元固本、守正创新

- A、①②③
- B、①②④
- C、①③④
- D、②③④

2、2021年2月25日，全国脱贫攻坚总结表彰大会在北京人民大会堂隆重举行。中共中央总书记、国家主席、中央军委主席习近平为获得“脱贫攻坚楷模”荣誉称号的人员颁发了奖章。下列“脱贫攻坚楷模”与其主要事迹对应正确的是（ ）。

- ①张桂梅——献身教育扶贫，点燃大山女孩希望
- ②赵亚夫——40年坚守科技兴农，发展高效农业
- ③黄文秀——带领大家种植黄桃8万多亩，走上脱贫致富路
- ④毛相林——历时7年，带领乡亲们在绝壁上凿出一条通向外界的道路

- A、①②③
- B、①②④
- C、①③④
- D、②③④

3、2021年3月18日—19日，中美两国在美国阿拉斯加州安克雷奇市举行高层会晤，会上，中国向美国明确发出了战略信号。下列对这一战略信号的理解不正确的是（ ）。

- A、同舟共济 开创未来
- B、互相尊重 平等相待
- C、划出红线 阐明关切
- D、和平发展 合作共赢

4、党的十八大以来，习近平总书记频频打卡“红色地标”，讲述一个个感人至深的“红色传奇”。他来到某会

议公址时指出，此次会议“在把马克思主义基本原理同中国具体实际相结合、坚持走独立自主道路、坚定正确的政治路线和政策策略、建设坚强成熟的中央领导集体等方面，留下宝贵经验和重要启示”。总书记所说的“此次会议”是（ ）。

- A、古田会议
- B、遵义会议
- C、洛川会议
- D、瓦窑堡会议

5、习近平总书记在全国科技创新大会、两院院士大会、中国科协第九次全国代表大会上的讲话中引用朱熹的“穷理以致其知，反躬以践其实”来勉励广大科技工作者。下列对朱熹这句话蕴含哲理阐释正确的是（ ）。

- A、深入探究事物规律，并将认识用于亲身实践
- B、全面认识事物本质，并把认识化作实际动力
- C、细致阐发事物理论，并用理论塑造自我人格
- D、善于发现事物真相，并将发现实现经济价值

6、面对突如其来的严重疫情，广大医务人员白衣为甲、逆行出征，舍生忘死挽救生命。身患渐冻症的张定宇同志说：“我必须跑得更快，才能从病毒手里抢回更多病人。”这句话体现的医务人员职业素养，最恰当的是（ ）。

- A、严谨的工作态度
- B、分秒必争的意识
- C、高度的工作责任感
- D、命运与共的精神

7、在司法裁判中尽量保持情与法的有机统一，是我国一个根深蒂固的传统司法理念。下列对传统司法中“情”的含义理解不正确的是（ ）。

- A、情节，即嫌疑人实施犯罪的具体情况
- B、情理，即普通人都有常识理性
- C、情志，即嫌疑人的犯罪动机和目的
- D、情感，即司法官员个人的恻隐之心

8、清明前夕，姜某在一微信群发表“平时不跑操，活该挨一刀”等言论，侮辱不久前因实施抓捕嫌疑人而被刀刺中要害牺牲的烈士警察王某。对于本案，下列说法正确的是（ ）。

- ①当地民政部门可提起刑事附带民事诉讼
- ②当地检察院可对姜某提起民事公益诉讼
- ③王某的近亲属可要求姜某承担侵权责任

④当地公安机关应对姜某处以行政处罚

A、①②③

B、①②④

C、①③④

D、②③④

9、花卉点缀大自然，美化我们的生活，也成为历代诗人歌咏的对象。下列诗句与其歌咏的花卉对应不正确的是（ ）。

A、不是人间种，移从月里来——桂花

B、魏紫姚黄欲占春，不叫桃杏见清明——牡丹

C、九畹齐栽品独优，最宜簪助美人头——兰花

D、疏影横斜水清浅，暗香浮动月黄昏——荷花

10、我国许多高校都有一座教学楼叫“明德楼”，名字取自古代名言“大学之道，在明明德”。这句名言出自的典籍是（ ）。

A、《尚书》

B、《论语》

C、《礼记》

D、《孟子》

11、习近平总书记强调“做好基层公共服务，关键看实效，要提高针对性，老百姓需要什么，我们就做什么，要加强对基层工作人员的培训，增强为民服务意识和能力”，下列对这段话中“实效”的理解正确的是（ ）。

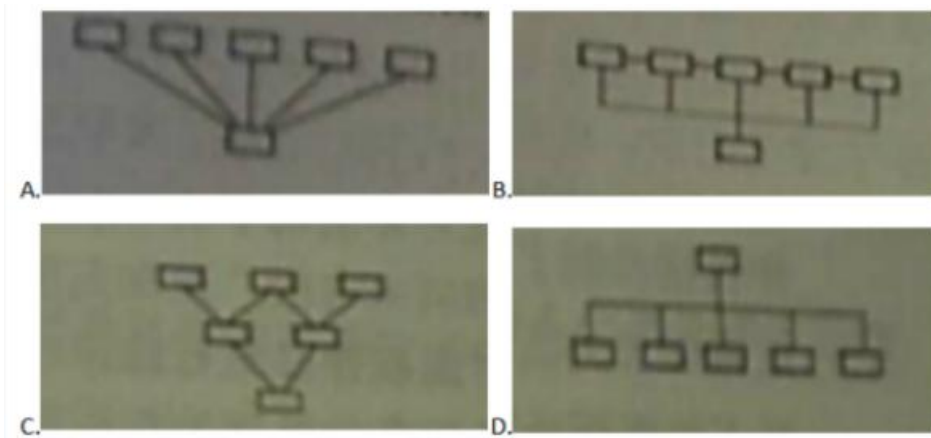
A、要满足老百姓对公共服务的所有要求

B、要以绩效为引导做好公共服务的考核工作

C、要围绕老百姓的需求提供精准有效的公共服务

D、要将增强工作人员的服务意识和能力作为工作重心

12、某市公共服务机构大力推进“综合柜员制”改革，通过优化服务流程，打破业务壁垒，一个窗口可办理多项业务，改变以往一个窗口只负责一项业务的服务模式，大大提升了服务效率和便利化程度。如果以“口”代表业务部门或窗口，下列属于“综合柜员制度”的结构流程图是（ ）。



- A、详见题干
- B、详见题干
- C、详见题干
- D、详见题干

13、不久前举行的国家级高值医用耗材集中采购，使多年来价格高昂的心脏支架大幅降价，预计节约资金超百亿元。下列关于集中采购的说法正确的是（ ）。

- A、集中采购只适用于关系国计民生的产品和服务
- B、集中采购的作用机制是借助规模效应实现降价保质
- C、集中采购是规范市场秩序和企业经营行为的关键措施
- D、集中采购是为了通过降价扩大相关产品和服务的使用范围

二、言语理解与表达。本部分包括表达与理解两方面的内容。请根据题目要求，在四个选项中选出一个最恰当的答案。

14、“十四五”时期，要营造市场化法治化国际化营商环境，衔接国际通行规则，完善制度体系和监管模式，健全准入前国民待遇加负面清单管理制度；完善自由贸易试验区布局，赋予更大改革自主权，加大对外开放压力测试力度；拓展深化服务业扩大开放试点范围，创新提升国家级经开区；强化开放安全保障，构筑与高水平开放相匹配的风险防控体系。以下对文意概括最准确的是（ ）。

- A、建设更高水平开放型经济新体制
- B、打造更加高效的经济政策大环境
- C、强化对市场经济的法治保障
- D、提升商贸投资的国际化水平

15、“德”在老子《道德经》中占据重要的位置，它是沟通“道”与“万物”最重要的一环。借由“德”，“道”得以降落于万事万物之中。经过老子改造过的“德”，其内涵较西周时期有了巨大的变化。老子在使用“德”时，大多是针对人而言的。虽然人是万物中最具灵性的存在，但是人之“德”并非是固定不变的。这就要求人们要时刻注意修养自身之“德”。下列说法符合文意的是（ ）。

- A、“德”补足了“道”所缺失的人文精神
- B、“德”之重要在于其融于万事万物之中
- C、老子之“德”与西周时期之“德”的内涵截然不同
- D、人们要不断修身养德，因为“德”也在不断发展

16、随着“直播带货”呈现爆发式增长，产品质量疏于把关、使用极限词等引导消费者冲动消费，售后退换货难等问题时有发生，2020年全国12315平台共受理“直播”投诉举报2.5万件。其中“直播带货”投诉占比近八成，同比增加357.74%。“直播带货”这类业态在参与主体、经营架构、交易流程乃至信息传播方式等方面均有别于传统的网络交易活动，带来了一系列新的监管难题。

这段文字意在强调的是（ ）。

- A、“直播带货”主义野蛮生长阶段
- B、“直播带货”参与主体往往良莠不齐
- C、“直播带货”需依法加强规范监管
- D、“直播带货”应适时提高准入门槛

17、目前，我国影视外译活动丰富多彩，国家战略底下的影视翻译将影视作品的外译和传播推到了前所未有的广度和高度，商业翻译更加注重影视作品的商业属性，主要依据供求关系对影视作品进行翻译，有助于满足需求，影迷翻译可以成为国家赞助体系下的影视外译和商业外译的有益补充，这些不同的翻译模式，共同促进中国影视的跨境传播，将更多的中国影视佳作带给世界，这段文字重在说明的是（ ）。

- A、我国影视外译的基本模式
- B、我国影视外译的多元发展
- C、不同翻译模式对中国影视境外传播的作用
- D、不同翻译模式所对应的不同文化传播主体

18、面对城镇老旧小区改造任务，要用好试点经验实施城镇老旧小区改造是范围更广，内容更丰富的城市更新行动的先手棋。因此，要完成城镇老旧小区改造任务，各项机制仍需加强协同，形成合力，逐步拓展深化为一整套大规模存量提质改造相适应的体制机制和政策体系，用城镇老旧小区改造这个“小切口”，推进城市开发建设模式转型、基层社会治理新格局构建的大改革，_____。

根据文意填入画横线处，最恰当的是（ ）。

- A、打赢城镇老旧小区改造的攻坚战
- B、用好城市更新试点经验的政策机制
- C、为城市开发建设提供可复制成功案例
- D、为城市治理体系现代化提供强大动力

19、一百年来，无数中国共产党人把对信仰的坚守化为报国为民的行动，树立起一座座精神丰碑，_____

了对马克思主义的坚定信仰、对共产主义和社会主义的_____信念、对党和人民的无比忠诚。

依次填入画横线处最恰当的一项是（ ）。

- A、诠释 执着
- B、展示 虔诚
- C、镌刻 忠贞
- D、记载 永恒

20、溪水静静地流淌，下游的拐弯处长满了茂密的莎草，柔嫩的蒲草则占据了上游，一副此地_____的神气。水面四周还能看到野山鸡和田鼠_____，不过水中却没有鱼儿的踪影。

依次填入画横线处最恰当的一项是（ ）。

- A、唯我独尊 出巡
- B、非我莫属 出没
- C、我行我素 出入
- D、舍我其谁 出行

21、中国传统颜色怎样应用到设计实践中？朗读技巧怎么练？网络平台上的知识问答区、内容打赏区及付费社群内，贴满了_____的问题和解答。世界著名古典音乐赏析、职场心理成长 20 课等音视频课程也得到前所未有的开发制作。可以明显地感觉到，今天知识生产的方式更_____，知识获取的渠道更加_____。

依次填入画横线处最恰当的一项是（ ）。

- A、五花八门 个性化 多元
- B、千奇百怪 快餐化 丰富
- C、林林总总 精细化 顺畅
- D、形形色色 集成化 便利

三、判断推理。本部分包括图形推理、定义判断、类比推理和逻辑判断四种类型的试题，在四个选项中选出一个最恰当的答案。

22、下列选项中，排列顺序正确的一项为（ ）。

- ①板门店停战谈判
- ②彭德怀临危受命
- ③党中央英明决策
- ④志愿军跨过鸭绿江
- ⑤中朝军队收复平壤

- A、③-②-⑤-④-①
- B、③-②-④-⑤-①

C、②-①-④-⑤-③

D、②-④-⑤-③-①

23、下列选项中，排列顺序正确的一项为（ ）。

①唐婉题钗头凤以和陆词

②陆游与唐婉在沈园相遇

③陆母逼陆游与唐婉分开

④陆游题钗头凤词于沈园

⑤陆游再游沈园悲悼唐婉

A、②-③-⑤-④-①

B、③-④-⑤-①-②

C、②-③-①-④-⑤

D、③-②-④-①-⑤

24、下列选项中，排列顺序正确的一项为（ ）。

①村民无奈望茶兴叹

②乡村种植高产绿茶

③村民喜悦采摘新茶

④电商加盟销售茶叶

⑤政府开展技术服务

A、②-⑤-③-①-④

B、②-③-①-④-⑤

C、①-⑤-③-④-②

D、①-⑤-②-④-③

25、下列选项中，排列顺序正确的一项为（ ）。

①警察调取小区监控录像

②小区多处安装智能监控

③法院依法对周某作出判决

④老张汽车的挡风玻璃被砸

⑤周某将废弃花盆扔出窗外

A、④-⑤-②-①-③

B、⑤-④-①-③-②

C、④-①-②-⑤-③

D、②-⑤-④-①-③

26、下列选项中，排列顺序正确的一项为（ ）。

- ①台风蓝色预警发布
- ②当地群众安全转移
- ③山洪冲毁大批房屋
- ④救援队伍赶赴灾区
- ⑤狂风暴雨如约而至

A、①-⑤-③-④-②

B、①-②-④-⑤-③

C、③-⑤-②-④-①

D、①-③-⑤-②-④

27、扶贫：扶智（ ）。

A、教育：德育

B、战争：战术

C、锻炼：骑行

D、管理：工作

28、专家：诗人（ ）。

A、模范：榜样

B、领导：员工

C、英雄：名人

D、医生：护士

29、乡泪客中尽，孤帆天际看：思归（ ）。

A、近乡情更怯，不敢问来人：送别

B、夜来风雨声，花落知多少：惜春

C、白头宫女在，闲坐说玄宗：悼亡

D、海日生残夜，江春入旧年：怀古

30、新疆棉花：中国棉花：棉农（ ）。

A、西部城市：二线城市：市民

B、物理学家：天文学家：学者

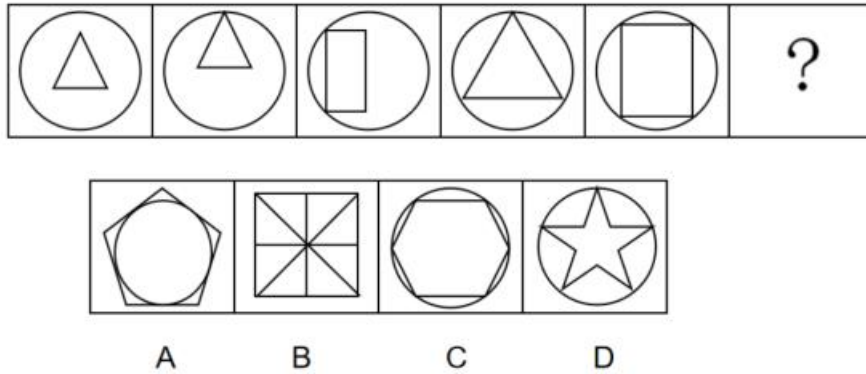
C、红木家具：实木家具：工人

D、国内市场：农村市场：商人

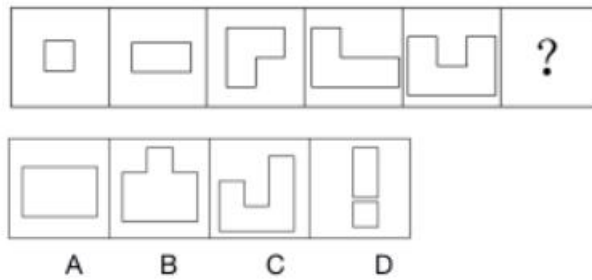
31、泰山压顶：迎难而上：攻坚克难（ ）。

- A、黑云压城：虚张声势：云开日出
- B、大敌当前：众志成城：精心谋划
- C、风暴侵袭：未雨绸缪：重建家园
- D、风险来临：直面挑战：化险为夷

32、从所给的四个选项中，选择最合适的一个填入问号处，使之呈现一定规律性（ ）。

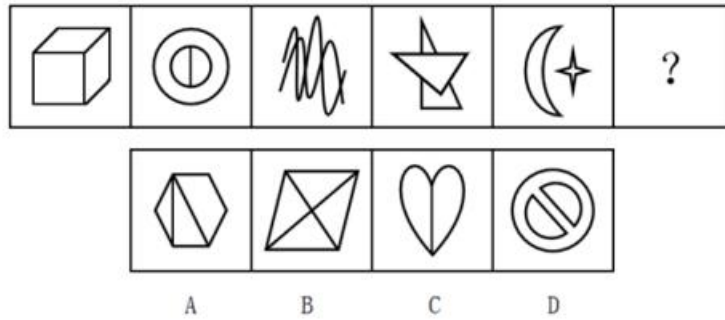


- A、A
 - B、B
 - C、C
 - D、D
- 33、



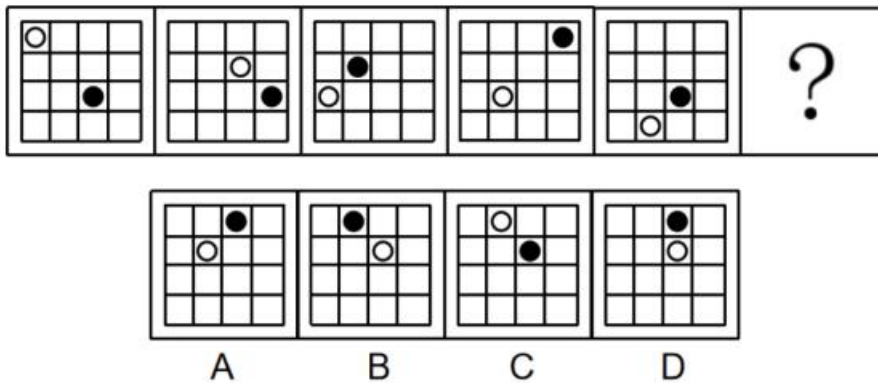
- A、A
- B、B
- C、C
- D、D

34、从所给的四个选项中，选择最合适的一个填入问号处，使之呈现一定规律性（ ）。



- A、A
- B、B
- C、C
- D、D

35、从所给的四个选项中，选择最合适的一个填入问号处，使之呈现一定规律性（ ）。



- A、A
- B、B
- C、C
- D、D

36、我们党的百年历史，就是一部践行党的初心使命的历史，就是一部党与人民心连心、同呼吸、共命运的历史。历史充分证明，江山就是人民，人民就是江山，人心向背关系党的生死存亡。赢得人民信任，得到人民支持，党就能够克服任何困难，就能够无往而不胜。

根据以上陈述，可以得出以下哪项（ ）。

- A、只有赢得人民信任，党才能得到人民支持
- B、只有能够克服任何困难，党才能赢得人民信任
- C、如果得不到人民支持，党就不能无往而不胜
- D、如果不能赢得人民信任，党就不能克服任何困难

37、新冠疫情给经济社会生活造成了严重影响，也使得无接触经济浮现在人们眼前，直播带货、远程会议

等新事物迅速涌进日常生活。经济活动的参与者在空间隔离的条件下，通过网络等平台间接接触，实现人与物之间、人与人之间经济交往。这种方式得到了消费者的高度认可。有专家就此断言，无接触经济会因新冠疫情而在未来得到快速发展。

以下哪项如果为真，最能支持上述专家的断言（ ）。

- A、目前线上支付的安全性，及线上交易的企业与个人信用度均略有不足
- B、相对于无接触经济，“面对面”经济交往活动仍具有较低的交易成本
- C、如果新冠病毒传播具有长期性和反复性，人们仍会坚持“云端生活”
- D、人们注重生命健康，“无接触”消费习惯一经养成就会形成路径依赖

38、右下方有一个 5X5 的方阵，其中每行、每列均有 5 个小方格。每格种应填 1 个字，每行、每列均要填上“德”“能”“勤”“绩”“廉”5 个字，不能重复，也不能遗漏。方阵中有些方格已填上了字。

根据要求，中间一列（有问号处）应填上的 5 个字自上而下依次是（ ）。

	勤	?	绩	
		?		能
绩		?	德	勤
	德	?		
德		?	勤	

- A、德、能、勤、绩、廉
- B、德、廉、能、勤、绩
- C、绩、能、廉、德、勤
- D、廉、德、能、勤、绩

39、驴被用作驮兽已逾数千年。唐代普通百姓骑驴很平常，但在官宦人群中却极为罕见。据史书记载，唐代很多官宦人家喜爱驴鞠这一骑驴打球的女子体育运动。2012 年，考古人员发掘了一处墓葬，墓主为唐博陵郡夫人崔氏，出土了驴骨、铅马镫等陪葬物品。墓中陪葬的驴体型较小，肱骨异常。研究人员据此推断，崔氏生前喜爱驴鞠运动。

以下哪项如果为真，最能支持上述研究人员的推断（ ）。

- A、体型较小的驴不太适合作为交通运输工具，更有可能被人用于其他目的
- B、驮兽缓慢而稳定的步态所造成的骨干形态，明显有别于长期运动的动物
- C、贵妇人崔氏“视死如生”，使用驴陪葬，是冀望死后仍能参加驴鞠运动
- D、唐朝女性一般选择性格温顺、体型较小、速度较慢的驴以代替马来打球

40、大学生甲、乙、丙、丁、戊、己选修了“中国文学经典阅读”这门课，老师列出《论语》《史记》《唐诗三百首》《古文观止》4部经典让大家选读。甲和丙两人选择的经典全部相同，丁与己两人选择的经典全部相同。6人中，每人都选择了两部经典，而每部经典都至少有两人选择，至多有4人选择。另外，6人选择还存在如下特征：

- (1) 如果丁选择《论语》，则甲和乙都选择《史记》；
- (2) 如果甲和乙两人中至少有一人选择《论语》，则丁也选择《论语》；
- (3) 如果丁和丙两人中至少有一人选择《唐诗三百首》，则己选择《史记》。

根据以上陈述，可以得出以下哪项（ ）。

- A、甲选择《论语》《史记》
- B、乙选择《史记》《唐诗三百首》
- C、丁选择《论语》《唐诗三百首》
- D、戊选择《唐诗三百首》《古文观止》

四、资料分析。所给出的图、表、文字或综合性资料均有若干个问题要你回答。你应根据资料提供的信息进行分析、比较、计算和判断处理。

(一)

2020年，江苏省经济运行恢复向好，高质量发展有力推进，实现GDP达10.27万亿元，增速比全国平均高出1.4个百分点，呈现以下几个方面的特点：

一是统筹疫情防控和经济社会发展工作取得“双胜利”。全省GDP同比增速由一季度下降5.0%、上半年增长0.9%、前三季度增长2.5%，继续回升至全年增长3.7%。

二是“六稳”“六保”得到有效落实。城镇新增就业132.8万人，年末城镇登记失业率为3.2%。新登记市场主体267.6万户，同比增长45.0%。四季度，江苏企业景气指数达127.8，比上年同期高5个点；江苏企业家信心指数达129.1，比上年同期高5.4个点。

三是经济发展质效显著提升。一般公共预算收入突破9000亿元，达到9059.0亿元，同比增长2.9%其中，税收收入7413.9亿元，增长1.0%。1-11月，互联网和相关服务业增长181.0%，商务服务业增长31.5%，专业技术服务业增长7.6%。

四是新兴动能快速成长。战略性新兴产业产值占规模以上工业产值比重达37.8%，比上年提高5个百分点。高新技术产业产值占规模以上工业产值比重达46.5%，比上年提高2.1个百分点。

五是需求结构持续优化。高技术产业投资增长 8.4%，高技术服务业投资增长 29.9%，机电设备、高新技术产品出口占全省出口总额的比重分别为 66.8%和 37.2%。

六是民生福祉持续增进。一般公共预算支出中，社会保障和就业、住房保障、卫生健康分别增长 25.9%、30.6%、11.4%。居民人均可支配收入由一季度增长 1.5%、上半年增长 2.3%、前三季度增长 4.0%，回升至全年增长 4.8%。

41、2020 年江苏省实现 GDP 比上年增长的数额是（ ）。

- A、0.26 万亿元
- B、0.37 万亿元
- C、0.48 万亿元
- D、0.59 万亿元

42、2020 年江苏省一般公共预算收入占 GDP 的比重与上年相比（ ）。

- A、增加了 0.1 个百分点
- B、增加了 1.2 个百分点
- C、减少了 0.1 个百分点
- D、减少了 1.2 个百分点

43、2019 年第四季度江苏省的企业家信心指数比企业景气指数高（ ）。

- A、0.9 个点
- B、1.3 个点
- C、1.6 个点
- D、1.7 个点

44、2020 年江苏高新技术产品出口额中机电设备出口额的比重至少是（ ）。

- A、3.8%
- B、10.6%
- C、26.3%
- D、33.5%

45、关于全国和江苏的经济发展状况，下列判断不正确的是（ ）。

- A、2020 年全国 GDP 增速是 2.3%
- B、2019 年江苏省的新登记市场主体数为 184.6 万户
- C、2020 年各个季度江苏省居民人均可支配收入均实现了正增长
- D、2019 年江苏省战略性新兴产业产值占规模以上工业产值的比重超过了 1/3

（二）

2020 年全国软件业务收入 81616.0 亿元，比上年增长 13.3%。其中：软件产品收入 22757.7 亿元，比上年增长 10.0%；信息技术服务收入 49867.7 亿元，比上年增长 15.2%；嵌入式系统软件收入 7492.3 亿元，比上年增长 12.0%，2020 年 1-12 月全国软件业务收入年内累计值及其同比增速见下表。

表 2020 年 1—12 月全国软件业务收入年内累计值(亿元)及其同比增速(%)

月份	软件业务收入		软件产品		信息技术服务		嵌入式系统软件	
	累计值	增速	累计值	增速	累计值	增速	累计值	增速
1—2	8007.6	-11.6	2188.9	-14.0	4824.1	-8.4	862.0	-21.9
3	14087.5	-6.2	3914.8	-10.0	8535.7	-2.3	1464.1	-14.7
4	20829.6	-0.1	5529.1	-4.0	12615.4	3.3	2421.4	-6.5
5	27999.0	4.2	7546.0	0.7	16990.1	7.3	3079.4	-1.3
6	35609.3	6.7	9614.8	3.3	21582.9	9.5	3892.0	1.5
7	42448.3	8.6	11622.6	6.3	25503.0	11.0	4655.4	3.6
8	49983.7	10.0	13698.7	8.3	30095.4	11.9	5417.8	5.6
9	58387.1	11.3	15901.1	7.9	35162.0	13.2	6365.5	10.2
10	65541.6	11.7	18067.9	10.0	39449.4	13.9	6856.3	5.0
11	73141.6	12.4	19749.2	10.0	44572.1	14.9	7479.0	5.0
12	81616.0	13.3	22757.7	10.0	49867.7	15.2	7492.3	12.0

46、2020 年第四季度全国软件业务收入的环比增速是（ ）。

- A、2.0%
- B、3.5%
- C、4.2%
- D、5.3%

47、2020 年下半年全国嵌入式系统软件收入最高的月份是（ ）。

- A、7 月
- B、9 月
- C、10 月
- D、12 月

48、2020 年全国软件产品、信息技术服务收入占软件业务收入的比重相差（ ）。

- A、27 个百分点
- B、30 个百分点
- C、33 个百分点
- D、36 个百分点

49、2020 年全国软件产品、信息技术服务、嵌入式系统软件之外的其他软件业务收入为（ ）。

- A、639.3 亿元
- B、857.5 亿元

C、1108.9 亿元

D、1498.3 亿元

50、关于全国软件业务收入的同比增速，下列判断正确的是（ ）。

A、2020 年 4 月份全国软件业务收入的同比增速是负值

B、2020 年 12 月份全国软件产品收入的同比增速是 10.0%

C、2020 年第一季度全国信息技术服务收入的同比增速为-6.4%

D、2020 年 12 月份全国嵌入式系统软件收入的同比增速是 12.0%

参考答案

1、本题考查政治常识。

2021 年 2 月 20 日，党史学习教育动员大会在北京召开，习近平出席会议并发表重要讲话。习近平强调，我们党历来重视党史学习教育，注重用党的奋斗历程和伟大成就鼓舞斗志、明确方向，用党的光荣传统和优良作风坚定信念、凝聚力量，用党的实践创造和历史经验启迪智慧、砥砺品格。党的十八大以来，党中央高度重视学习党的历史，提出了一系列要求。在庆祝我们党百年华诞的重大时刻，在“两个一百年”奋斗目标历史交汇的关键节点，在全党集中开展党史学习教育，正当其时，十分必要。因此①②③正确。

故正确答案为 A。

2、本题考查政治常识。

①正确，张桂梅，女，满族，中共党员，1957 年 6 月生，云南省丽江市华坪女子高级中学党支部书记、校长，华坪县儿童福利院院长。她胸怀梦想、矢志不渝，扎根边疆教育一线 40 余年，推动创建了中国第一所公办免费女子高中，建校 12 年来帮助 1800 多名女孩走出大山走进大学。

②正确，赵亚夫，男，汉族，中共党员，1941 年 4 月生，江苏省句容市天王镇戴庄有机农业专业合作社研究员。他 40 年坚守科技兴农的情怀，创造性提出“水田保粮、岗坡致富”的工作思路，发展高效农业。

③错误，黄文秀，女，壮族，中共党员，1989 年 4 月生，生前系广西壮族自治区百色市委宣传部派驻乐业县新化镇百坭村驻村第一书记。北京师范大学研究生毕业后，她放弃大城市高薪工作，毅然回到家乡，主动请缨到贫困村担任驻村第一书记。她巾帼不让须眉，勇敢挑起全村脱贫重任，挨家挨户上门走访，跑项目、找资金、请专家，组织村民大力发展产业，带动全村实现整体脱贫。

④正确，毛相林，男，汉族，中共党员，1959 年 1 月生，重庆市巫山县竹贤乡下庄村党支部书记。他立志改变全村贫穷闭塞的“宿命”，1997 年起带领乡亲以“愚公移山”的决心和毅力，历时 7 年，在绝壁上凿出一条 8 千米长的“绝壁天路”。

故正确答案为 B。

3、本题考查政治常识。

2021 年 3 月 18 日—19 日，中共中央政治局委员、中央外事工作委员会办公室主任杨洁篪，国务委员兼外

长王毅在安克雷奇同美国国务卿布林肯、总统国家安全事务助理沙利文举行中美高层战略对话。

A 项错误，与本次会晤内容无关，排除。

B 项正确，中美合则两利，斗则俱伤，这是被历史一再证明的道理。基于此，中方与美方讨论了经贸、两军、执法、人文、卫生、网络安全等一系列问题。双方表示均致力于加强在气候变化领域对话合作，将建立中美气候变化联合工作组。这是本次中美高层战略对话中的积极因素，符合双方利益。当然，下一步合作需秉持互相尊重、平等相待的原则，中方不接受美方单方面拉单子、提要求，更不吃美方颐指气使那一套。

C 项正确，面对美方在会谈中的无端指责与霸道做法，中方有理有据进行驳斥回击，画出“红线”，阐明关切，展现了维护国家主权、安全与发展利益的坚定决心和意志。在对话中，中方明确指出，中国共产党的执政地位和制度安全不容损害；台湾、香港、新疆、西藏问题属于中国内政，坚决反对外部干涉。这些都是中方的红线，美方对此不应再有任何战略误判。

D 项正确，中方清晰阐明对大国相处之道的看法，坚定捍卫“真正的多边主义”。在这次对话中，中方重申坚定维护以联合国为核心的国际体系、以国际法为基础的国际秩序，而不是以一小部分国家制定的规则为基础的秩序；美国的价值不是国际价值，美国制定的规则不是国际规则。同时，中方指出，真正的多边主义应尊重世界各国主权，尊重文明多样性，致力于国际关系民主化，而不应该拉“小圈子”，更不应该开历史倒车，以意识形态划线，重挑集团对抗。中方这番坦率陈辞，说出了世界绝大多数国家的心声。在世纪疫情叠加百年变局的当下，和平发展、合作共赢是国际社会共识。美方若逆流而动，只会自食苦果。

本题为选非题，故正确答案为 A。

4、本题考查人文常识。

A 项错误，古田会议于 1929 年 12 月在福建古田召开。古田会议创造性地回答和解决了“党指挥枪”等军队建设的一系列基本问题，开辟了新型人民军队政治建军的成功之路，铸造了人民军队的军魂，重申了党对军队实行绝对领导的原则。

B 项正确，遵义会议是 1935 年在红军第五次反“围剿”失败和长征初期严重受挫的情况下，为了纠正王明“左倾”领导在军事指挥上的错误而召开的。这次会议是中国共产党第一次独立自主地运用马克思列宁主义基本原理解决自己的路线、方针政策的会议，会议确立毛泽东在党内的领导地位，是中国共产党历史上生死攸关的转折点，标志着中国共产党从幼稚走向成熟。

C 项错误，洛川会议是 1937 年中共中央在陕北洛川召开的政治局扩大会议。会议决定把党的工作重心放在战区和敌后，在敌后放手发动群众，开展独立自主的游击战争，开辟敌后战场，建立敌后抗日根据地。

D 项错误，瓦窑堡会议于 1935 年 12 月在陕北瓦窑堡召开，会议分析了华北事变后国内阶级关系的新变化，讨论了抗日民族统一战线、国防政府和抗日联军等问题，确定了建立抗日民族统一战线的政策，为党领导全国人民迎接伟大的抗日战争奠定了政治基础。

故正确答案为 B。

5、本题考查政治常识。

A 项正确，“穷理以致其知，反躬以践其实”出自宋代朱熹《四书章句集注》，意思是能够推究义理，从而获得知识学问；而后亲历亲为，用实际行动去验证学到的理论。即习近平总书记引用是想强调：科学研究要通过深入探究事物的原理，掌握其内在规律，并自我检查修正，将理论运用到实践中去。

B 项错误，“穷理以致其知，反躬以践其实”强调探究规律，运用于实践，与认识事物本质无关。

C 项错误，“穷理以致其知，反躬以践其实”强调探究规律，运用于实践，与塑造自我人格无关。

D 项错误，“穷理以致其知，反躬以践其实”并未提到经济价值相关理论。

故正确答案为 A。

6、本题考查政治常识。

武汉市金银潭医院院长张定宇同志是一名渐冻症患者，患者通常会因为肌肉萎缩而逐渐失去行动能力，就像被慢慢冻住一样，最后呼吸衰竭而失去生命。张定宇同志虽为病患，但更是一名医生，作为医生的责任感让他与时间赛跑，去救治更多病人。他舍生忘死愿用渐冻的生命，与千千万万白衣卫士一起，托起信心与希望，体现了高度工作责任感的医务人员职业素养。

（拓展：张定宇同志被授予“人民英雄”国家荣誉称号，也被评为“感动中国 2020 年度人物”。）

故正确答案为 C。

7、本题考查法律常识。

在中国传统司法中，“情”是与法、理并重的一种规范性要素。古代刑事司法中所称的“情”，大致包括了这样三个层次的含义：情理，即普通人都有基本逻辑和知识；情志，即嫌疑人的犯罪动机和目的；情感，即司法官员个人的恻隐之心。

A 项错误，情节是对犯罪刑考量的标准之一，是一种客观存在的情况，不是传统司法中的“情”。

B 项正确，“情”在传统司法中更多地被理解为情理。作为情理“情”，并非个人化的内心情感，而是基于传统伦理道德观的规范性情理、普通人都有常识理性。在司法审判中运用情理，就是以一种体察普遍的人情事理之方式，对社会生活给予健全的价值判断，从而获得“常识性的正义平衡感觉”，达到司法的公平、公正。

C 项正确，嫌疑人的犯罪动机和目的对犯罪刑考量的标准之一，中国古人在听狱的时候特别注重犯罪嫌疑人的犯罪动机和目的。

D 项正确，代审讯者和断狱者的恻隐之心是司法者个人化的情欲以及亲缘关系等私人关系对案件的影响。

本题为选非题，故正确答案为 A。

8、本题考查法律常识。

①错误，《刑事诉讼法》第一百零一条规定：“被害人由于被告人的犯罪行为而遭受物质损失的，在刑事诉讼过程中，有权提起附带民事诉讼。被害人死亡或者丧失行为能力的，被害人的法定代理人、近亲属有权提起附带民事诉讼。如果是国家财产、集体财产遭受损失的，人民检察院在提起公诉的时候，可以提起附带民事诉

讼。”因此，民政部门无权提出刑事附带民事诉讼。

②正确，《英雄烈士保护法》第二十五条第二款规定：“英雄烈士没有近亲属或者近亲属不提起诉讼的，检察机关依法对侵害英雄烈士的姓名、肖像、名誉、荣誉，损害社会公共利益的行为向人民法院提起诉讼。”姜某侮辱烈士的行为损害了社会公共利益，当地检察院可对姜某提起民事公益诉讼。

③正确，《民法典》第九百九十四条规定：“死者的姓名、肖像、名誉、荣誉、隐私、遗体等受到侵害的，其配偶、子女、父母有权依法请求行为人承担民事责任；死者没有配偶、子女且父母已经死亡的，其他近亲属有权依法请求行为人承担民事责任。”姜某的言论损害了烈士的名誉权，烈士的近亲属有权要求姜某承担民事责任。

④正确，《治安管理处罚法》第四十二条规定：“有下列行为之一的，处五日以下拘留或者五百元以下罚款；情节较重的，处五日以上十日以下拘留，可以并处五百元以下罚款：(二)公然侮辱他人或者捏造事实诽谤他人的…”姜某在微信群发表言论公然侮辱烈士，违反了《治安管理处罚法》，公安机关应对其治安处罚。

故正确答案为 D。

9、本题考查文学常识。

A 项正确，“不是人间种，移从月里来”出自宋·杨万里的《芎林五十咏·丛桂》，意为桂花树不是人间的树，而是从月宫移之而来，诗句描写的是桂花。

B 项正确，“魏紫姚黄欲占春，不叫桃杏见清明”出自宋·毛滂的《浣溪沙（寒食初晴，桃杏皆已零落，独牡丹欲开）》，魏紫姚黄泛指宋代洛阳两种名贵的牡丹品种，意为清明前后，桃花杏花皆已零落，只有牡丹含苞待放，诗句描写的是牡丹。

C 项正确，“九畹齐栽品独优，最宜簪助美人头”出自清·秋瑾《兰花》，意为兰花是花中品种最优秀者，最宜为美人增光添彩，诗句描写的是兰花。

D 项错误，“疏影横斜水清浅，暗香浮动月黄昏”出自宋·林逋《山园小梅》，意为梅花稀疏的影儿，横斜在清浅的水中，清幽的芬芳浮动在黄昏的月光之下，诗句描写的是梅花，而不是荷花。

本题为选非题，故正确答案为 D。

10、本题考查文学常识。

A 项错误，《尚书》又称《书》《书经》，上古之书，是中国第一部上古历史文件和部分追述古代事迹著作的汇编，保存了商周特别是西周初期的一些重要史料，是我国最早的一部历史散文集。同时也是儒家五经之一，五经包括《诗经》《尚书》《礼记》《周易》《春秋》。

B 项错误，《论语》是儒家经典之一，是一部以记言为主的语录体散文集，主要以语录和对话文体的形式记录了孔子及其弟子的言行，集中体现了孔子的政治、审美、道德伦理和功利等价值思想。

C 项正确，“大学之道，在明明德，在亲民，在止于至善”出自《大学》，意为：大学的宗旨，在于弘扬光明正大的品德，学习和应用于生活，使人达到最完善的境界。《大学》是一篇论述儒家修身齐家治国平天下思

想的散文，原是《礼记》第四十二篇，相传为春秋战国时期曾子所作，实为秦汉时儒家作品，是一部中国古代讨论教育理论的重要著作。

D 项错误，《孟子》是儒家的经典著作，战国中期孟子及其弟子万章、公孙丑等著。最早见于赵岐《孟子题辞》：“此书，孟子之所作也，故总谓之《孟子》”。《孟子》与《大学》《中庸》《论语》被南宋朱熹列为“四书”。

故正确答案为 C。

11、基层公共服务，主要是指基层组织为百姓提供就业、社保、扶贫、医疗、卫生、保健、防疫、文化、科技、体育、普法、托老、养老、托幼、助残等基本公共服务，是服务群众的“最后一公里”。基层公共服务与百姓生活息息相关，基层公共服务做得怎么样，主要在于百姓办事是否方便，遇到的操心事、烦心事、揪心事是否得到有效解决。做好基层公共服务，关键要把百姓需要作为第一信号，把各项服务办到百姓心坎上。题干中的“要提高针对性，老百姓需要什么，我们就做什么”体现的是要围绕老百姓的需求提供精准有效的公共服务。

故正确答案为 C。

12、本题考查管理常识。

综合柜员制是指在严格授权管理下，以完善的内部控制制度和较高的人员素质为基础，实行单人临柜处理会计、出纳、储蓄、中间代收业务等面向客户的全部业务的劳动组合形式。

A 项错误，五个业务部门之间并没有任何联系，存在业务壁垒，没有提升服务效率。

B 项错误，“综合柜员制”实施的是单人临柜处理各项业务，各窗口之间是并列、独立的。

C 项错误，相较于 A、B 项而言，业务流程并没有简化，依然繁琐。

D 项正确，体现了单人临柜处理多项业务，提升了办事效率，改变以往一个窗口只负责一项业务的服务模式，大大提升了服务效率和便利化程度，属于“综合柜员制度”的结构流程图。

故正确答案为 D。

13、本题考查经济常识。

A 项错误，集中采购适用于大宗或批量物品、价值高或总价多的物品和关键零部件、原材料或其他战略资源，保密程度高，产权约束多的物品等，不仅适用于关系国计民生的产品和服务。

B 项正确，集中采购的作用机制是借助规模效应实现降价保质，国家级高值医用耗材集中采购的目的是探索完善高值医用耗材集中采购机制和以市场为主导的价格形成机制，降低群众负担，规范流通秩序，提高群众看病就医质量。

C 项错误，规范市场秩序和企业经营行为的治本之策是形成以道德为支撑、以法律为保障的社会信用制度，集中采购的主要意义是节约采购成本、统一用品标准、监管采购行为等。

D 项错误，集中采购在一定程度上实现了降价保质，但目的不在于扩大相关产品和服务的使用范围，而在于节约成本、统一产品标准、监管采购行为等。如国家级高值医用耗材集中采购的目的不是扩大高值医用耗材

的使用范围，而是提高群众看病就医的质量，减轻群众负担。

故正确答案为 B。

14、文段提出在“十四五”时期即将采取的一系列措施，具体做法通过“；”构成并列关系，包括完善规则制度以“营造更好的国际营商环境”、完善自贸区布局以“加大对外开放压力测试力度”、拓展开放试点范围、加强开放安全风险防控等。通过总结，所有做法均围绕对外“开放”这一主题词，即目的是为了更好更高水平地建设完善对外开放体制，对应 A 项。

B 项，“更加高效”文段无法体现，无中生有，排除；

C 项，“市场经济”文段未提及，且文段中“法治保障”侧重于国际营商环境，选项偏离文意，排除；

D 项，“商贸投资”文段未提及，无中生有，排除。

故正确答案为 A。

【文段出处】《奋力推动“十四五”时期商务高质量发展》

15、文段开篇指出“德”在《道德经》，以及沟通“道”与“万物”沟通的重要性，然后讲了经过老子改造后的“德”，其内涵发生深刻的变化，紧接着具体讲了老子在使用“德”时大多是针对人的，最后以转折关联词“但是”引出人之“德”并非固定不变的，故文段强调的重点是经过老子改造后的“德”是不断发展的，是变化着的，选项 D 符合。

A 项，文段只是提及要求人们要时刻注意修养自身之“德”，未提及补足了“道”所缺失的人文精神，无中生有，排除；

B 项，原文提及“‘道’得以降落于万事万物之中”是指“道”沟通了“万物”，只是前面提到“德”的重要性，非重点，排除；

C 项，文段体现的是不同时期“德”发展，选项表述不具体，只是提到内涵截然不同。

故正确答案为 D。

【文段出处】《<老子>德论》

16、文段首句指出“直播带货”出现了一系列问题，导致投诉量同比增加，紧接着指出“直播带货”这类业态在参与主体、经营架构、交易流程等方面与以往传统网络交易不同，从而带来一系列新的监管难题。因此文段意在强调“直播带货”所引发的监管问题，故选项应选择针对性对策，需要加强监管，对应 C 项，当选。

A 项，对应文段首句的表述，属于背景描述，非文段重点，排除；

B 项，文段为“直播带货”在参与主体方面与传统交易不同，未提及“直播带货”参与主体的良莠不齐，无中生有，排除；

D 项，文段强调“直播带货”监管难问题，而未提及准入门槛是否合理，无中生有，排除。

故正确答案为 C。

【文段出处】《市场监管总局点名直播带货：使用“极限词”等引导消费者冲动消费》

17、文段开篇引出国家赞助体系下的影视翻译已将影视作品的外译和传播推到了前所未有的广度和高度，

接下来又分别阐述了商业翻译和影迷翻译两种不同翻译模式，最后总结这些不同翻译模式对中国影视境外传播的作用，对应 C 项。

A 项，文章阐述了国家赞助体系下的影视翻译、商业翻译和影迷翻译三种不同翻译模式对中国影视境外传播的作用，而非仅仅表述我国影视外译的模式，偏离文段重点，且文段中没有说到哪一个模式是“基本模式”，无中生有，排除；

B 项，文章重在阐述不同翻译模式对中国影视境外传播的作用，而非仅仅介绍我国影视外译多元发展的情况，结论前非重点，排除；

D 项，文段中并未说明不同翻译模式所对应的“不同文化传播主体”是哪部分人，“不同文化传播主体”无中生有，排除。

故正确答案为 C。

【文段出处】《影视外译推动中国文化“走出去”》

18、文段前文阐述实施城镇老旧小区改造是城市更新行动的先手棋。后文通过“因此”得出城镇老旧小区改造需要各项机制加强协同，形成合力。最后一句总结全文，指出要通过老旧小区改造推进城市开发建设和基层社会治理。横线在结尾，应体现老旧小区改造对于城市开发建设和基层社会治理的作用。

A、B 两项均未提到“城市治理”，且不属于意义表述，排除；

C 项只谈及“城市开发建设”，缺少“基层社会治理”，表述片面，排除；

D 项“城市治理体系现代化”包含“城市开发建设和基层社会治理”，且该句属于意义表述，符合文意，当选。

故正确答案为 D。

【文段出处】《以改革促进城镇老旧小区改造》

19、第一空，横线所填词语搭配“信仰”，体现共产党人通过报国为民的行动来践行信仰的语义，A 项“诠释”指说明、解释，可表达共产党人对信仰通过实践进行形象解读，符合语境，保留；B 项“展示”指清楚地摆出来，明显地表现出来，与文段共产党人把信仰外化于行相吻合，保留；C 项“镌刻”指把铭文刻在某种坚硬物质上或石头上，不符合践行信仰的意思，排除；D 项“记载”指把事情记录下来，没有体现通过行动展现信仰的意思，排除。

第二空，A 项“执着”指对某一事物坚持不放，亦指对某种事物追求不舍，形容对信念追求不舍，符合语境，保留；B 项“虔诚”指恭敬而有诚意的态度，多用来形容对待某一宗教的态度，与文段语境不符，排除。

故正确答案为 A。

【文段出处】《信仰之光照亮百年征程》

20、第一空，对应“占据”，形容上游被蒲草全部占有。B 项“非我莫属”指除我以外不能属于任何人，与文段对应恰当，当选。A 项“唯我独尊”指认为只有自己最了不起，与文意不符，排除；C 项“我行我素”指不受外界影响，按自己向来的行事方式去做，体现不出“占据”的意思，排除；D 项“舍我其谁”形容人敢于担当，遇到该做的

事，绝不退让，文段并未体现担当，与文意不符，排除。

第二空代入验证，B项“出没”意思是出现，“看到野山鸡和田鼠”出现，符合文意。

故正确答案为B。

【文段出处】人民日报《草木味道》

21、第一空，根据文段信息“中国传统颜色怎样应用到设计实践中”、“朗读技巧怎么练”可知，此处表示网络平台上的问题很多。A项“五花八门”、C项“林林总总”、D项“形形色色”均体现事物种类繁多，各式各样，与文段对应恰当，保留。B项“千奇百怪”指各种各样奇怪的事物，侧重形容奇怪，文段没有体现奇怪之意，排除。

第二空，根据文段信息“世界著名古典音乐赏析、职场心理成长20课等音视频课程也得到前所未有的开发制作”可知，此处表示知识生产更加符合大众的需求，A项“个性化”指独特、另类、拥有自己特质的需要，C项“精细化”指精确细致，都可以体现针对大众的需求生产知识，与文段对应恰当，保留；D项“集成化”指把某些东西（或功能）集在一起，文段没有体现聚集在一起，排除。

第三空，根据文段信息“音视频课程也得到前所未有的开发制作”可知，此处表示知识获取的渠道更丰富，A项“多元”与文段对应恰当，当选。C项“顺畅”指顺利通畅，没有阻碍，文段没有体现是否受到阻碍、是否顺利获得知识之意，排除。

故正确答案为A。

【文段出处】《知识付费成为知识服务新潮流》

22、第一步：先确定逻辑关系最为明显的事件顺序。

观察题干，五个事件主要围绕抗美援朝最初决策到最后签订停战协议的过程。逻辑关系先后顺序比较明显的是事件①、④、⑤，应该先跨过鸭绿江，然后收复平壤，最终签订停战谈判，故应该是先事件④，再事件⑤，然后事件①，排除A、C项。

第二步：逐一对照选项并判断正确答案。

根据第一步得到的结果可知只有B项和D项符合，根据顺承关系，应该是先有党中央的英明决策，而后再有彭德怀临危受命，故事件③在事件②前面，排除D项，只有B项正确。

故正确答案为B。

23、第一步：先确定逻辑关系最为明显的事件顺序。

观察题干，五个事件主要围绕“陆游与唐婉的爱情故事”展开。逻辑关系的先后顺序比较明显的是事件①、②、④，应该先是陆游与唐婉在沈园相遇，然后悲从中来，陆游在沈园奋笔题下《钗头凤》，最后唐婉看到陆游的题词，和了一阙《钗头凤》，故排序应为事件②④①，排除B、C项。

第二步：逐一对照选项并判断正确答案。

根据第一步得到的结果可以判断只有A、D项符合，通过分析事件④⑤可知，应该先是陆游题词于沈园，然后再游沈园去悲悼，故事件④应在事件⑤前面，排除A项，只有D项正确。

故正确答案为 D。

24、第一步：先确定逻辑关系最为明显的逻辑顺序。

观察题干，五个事件主要围绕“乡村新茶产生”的过程展开。逻辑关系比较明显的是事件②、④，应该先种植绿茶，再销售茶叶。因此排除 C；

第二步：逐一对照选项并判断正确答案。

先是村民望茶兴叹，然后政府进行技术服务，接着村民种植绿茶，电商加盟销售茶叶，最后村民喜悦采摘新茶，只有 D 项正确。

故正确答案为 D。

25、第一步：先确定逻辑关系最为明显的事件排序。

观察题干，五个事件主要围绕“挡风玻璃被砸”展开。逻辑关系的先后顺序比较明显的是事件④和事件⑤，需先将“废弃花盆扔出窗外”才导致“汽车的挡风玻璃被砸”，因此事件⑤在事件④前面，可以排除 A、C 项。

第二步：逐一对照选项并判断正确答案。

根据第一步得到的结果，只有 B、D 两项符合，通过分析事件①和事件②可知，先将“小区多处安装智能监控”才能“调取小区监控录像”，因此事件②在事件①之前，排除 B 项。

故正确答案为 D。

26、第一步：先确定逻辑关系最为明显的事件排序。

观察题干，五个事件主要围绕“台风灾害到来”展开。逻辑关系的先后顺序比较明显的是事件③和事件⑤，应先是“狂风暴雨如约而至”然后才“山洪冲毁大批房屋”，因此事件⑤在事件③前面，可以排除 C、D 项。

第二步：逐一对照选项并判断正确答案。

通过分析事件③和事件④可知，应先“山洪冲毁大批房屋”才能“救援队伍赶赴灾区”，因此事件③在事件④之前，排除 B 项。

故正确答案为 A。

27、第一步：判断题干词语间逻辑关系。

扶贫必扶智，扶智是扶贫的根本，二者为对应关系。

第二步：判断选项词语间逻辑关系。

A 项：德育是教育的根本，二者为对应关系，与题干逻辑关系一致，当选；

B 项：战术是战争中指导战斗的方法，二者为对应关系，但与题干逻辑关系不一致，排除；

C 项：骑行是锻炼的一种，二者为种属关系，与题干逻辑关系不一致，排除；

D 项：管理和工作二者为动宾关系，与题干逻辑关系不一致，排除。

故正确答案为 A。

28、第一步：判断题干词语间逻辑关系。

有的专家是诗人，有的专家不是诗人，有的诗人是专家，有的诗人不是专家，二者为交叉关系。

第二步：判断选项词语间逻辑关系。

A 项：模范指值得学习和能够树立榜样的人，模范和榜样二者为近义关系，与题干逻辑关系不一致，排除；

B 项：领导管理员工，二者为对应关系，与题干逻辑关系不一致，排除；

C 项：有的英雄是名人，有的英雄不是名人，有的名人是英雄，有的名人不是英雄，二者为交叉关系，与题干逻辑关系一致，当选；

D 项：医生和护士是两个不同的职业，二者为并列关系，与题干逻辑关系不一致，排除。

故正确答案为 C。

29、第一步：判断题干词语间逻辑关系。

乡泪客中尽，孤帆天际看，表达的是思乡、思归的感情，二者为诗句与思想感情的对应关系。

第二步：判断选项词语间逻辑关系。

A 项：近乡情更怯，不敢问来人，表达的是思乡之情，不是描述送别场景，诗句与思想感情匹配不正确，与题干逻辑关系不一致，排除；

B 项：夜来风雨声，花落知多少，隐含着诗人对春光流逝的淡淡哀怨的惜春之情，二者为诗句与思想感情的对应关系，与题干逻辑关系一致，当选；

C 项：白头宫女在，闲坐说玄宗，表达了对于唐朝没落的盛衰之感叹，并非表达悼亡之情，诗句与所表达思想感情匹配不正确，与题干逻辑关系不一致，排除；

D 项：海日生残夜，江春入旧年，表达了思乡之情，而非怀古之情，诗句与思想感情匹配不正确，与题干逻辑关系不一致，排除。

故正确答案为 B。

30、第一步：判断题干词语间逻辑关系。

新疆棉花是中国棉花，二者为种属关系；棉农种植新疆棉花，二者为主宾关系。

第二步：判断选项词语间逻辑关系。

A 项：有的西部城市是二线城市，有的二线城市是西部城市，二者为交叉关系，与题干逻辑关系不一致，排除；

B 项：物理学家与天文学家是不同的科学家，二者为并列关系，与题干逻辑关系不一致，排除；

C 项：红木家具是实木家具，二者为种属关系；工人打造红木家具，二者主宾关系，与题干逻辑关系一致，当选；

D 项：农村市场是国内市场，二者为种属关系，但方向与题干不一致，与题干逻辑关系不一致，排除。

故正确答案为 C。

31、第一步：判断题干词语间逻辑关系。

泰山压顶的意思是泰山压在头上，比喻遭遇到极大的压力和打击；迎难而上的意思是就算遇到困难也不退缩，迎着困难去克服它，形容不怕困难，不怕挫折，勇敢地挑战；攻坚克难的意思是攻占坚固的堡垒，克服层层困难，现在常常用来形容或鼓励人们克服各种艰难险阻，圆满地完成任务。泰山压顶时，需要迎难而上，二者为对应关系；只有迎难而上，才能攻坚克难，二者为方式结果的对应关系。

第二步：判断选项词语间逻辑关系。

A项：黑云压城的意思是指乌黑色的云把天空弄的格外阴暗，显得有些压抑；虚张声势的意思是假装出强大的气势，指假造声势，借以吓人。黑云压城与虚张声势之间无明显逻辑关系，与题干逻辑关系不一致，排除；

B项：大敌当前的意思是面临威胁极大的敌人，形容当前局势十分严重；众志成城的意思是万众一心，像坚固的城墙一样不可摧毁，比喻团结一致，力量无比强大。大敌当前时，需要众志成城，二者为对应关系；众志成城与精心谋划之间无明显逻辑关系，与题干逻辑关系不一致，排除；

C项：未雨绸缪的意思是天还没有下雨，先把门窗绑牢，比喻事先做好准备工作。在风暴侵袭前，需要未雨绸缪，二者为对应关系，但与题干时间顺序不同，与题干逻辑关系不一致，排除；

D项：化险为夷的意思是化危险为平安，比喻转危为安。风险来临时，需要直面挑战，二者为对应关系；只有直面挑战，才能化险为夷，二者为方式结果的对应关系，与题干逻辑关系一致，当选。

故正确答案为D。

32、元素组成不同，优先考虑属性规律。观察发现，题干图形均为外曲内直，故？处应选择外曲内直的图形，排除A、B项。进一步观察发现，图一曲直交点数量为0，图二曲直交点数量为1，图三曲直交点数量为2，图四曲直交点数量为3，图五曲直交点数量为4，故？处应选择曲直交点数量为5的图形。C项曲直交点数量为6，D项曲直交点数量为5，只有D项符合。

故正确答案为D。

33、元素组成不同，且无明显属性规律、数量规律。观察题干图形，设图一正方形的边长为1，计算每一个图形的周长，分别为4，6，8，10，12，因此问号处图形的周长应为14，A项周长为10，B项周长为12，C项周长为14，D项周长为10，只有C项满足。

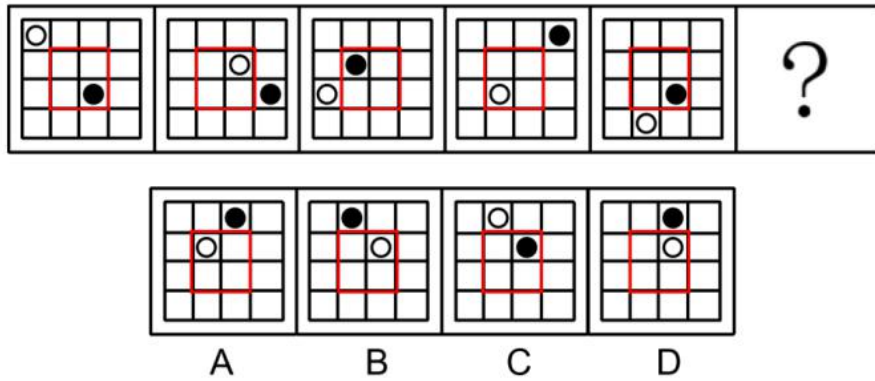
故正确答案为C。

34、元素组成不同，且无明显属性规律，考虑数量规律。观察发现，题干出现多端点图形，选项出现田字变形图，优先考虑笔画数，发现题干均为两笔画图形，故？处应选择两笔画图形，只有B项符合。

故正确答案为B。

35、元素组成相同，优先考虑位置规律。观察发现，题干图形当中内圈小球依次逆时针平移1格，且黑白颜色交替，外圈小球顺时针平移5格，且黑白颜色交替，如下图所示，故？处应选择由前一幅图形内圈小球逆时针平移1格，且为白球，外圈小球顺时针平移5格，且为黑球的图形，只有B项符合。

故正确答案为B。



36、第一步：翻译题干。

- ①赢得人民信任→克服任何困难
- ②赢得人民信任→无往而不胜
- ③得到人民支持→克服任何困难
- ④得到人民支持→无往而不胜

第二步：逐一分析选项。

A项：翻译为：得到人民支持→赢得人民信任，是对③的肯前，肯前必肯后，能够推出克服任何困难，无法推出赢得人民信任，排除；

B项：翻译为：赢得人民信任→克服任何困难，是对①的肯前，肯前必肯后，能够推出克服任何困难，当选；

C项：翻译为：¬得到人民支持→¬无往而不胜，是对④的否前，否前得不到确定性的结论，排除；

D项：翻译为：¬赢得人民信任→¬克服任何困难，是对①的否前，否前得不到确定性的结论，排除。

故正确答案为B。

37、第一步：找出论点和论据。

论点：有专家就此断言，无接触经济会因新冠疫情而在未来得到快速发展。

论据：新冠疫情给经济社会生活造成了严重影响，也使得无接触经济浮现在人们眼前，直播带货、远程会议等新事物迅速涌进日常生活。经济活动的参与者在空间隔离的条件下，通过网络等平台间接接触，实现人与物之间、人与人之间经济交往。这种方式得到了消费者的高度认可。

论点和论据讨论的都是无接触经济，论点论据话题一致，考虑补充论据的方式加强论点。

第二步：逐一分析选项。

A项：该项说明无接触经济有线上支付安全性及线上交易企业与个人信用度不足等缺点，所以未来可能不

会得到快速发展，有削弱作用，无法加强，排除；

B项：该项讨论的是“面对面”经济交往活动，而题干讨论的是无接触经济，主体不一致，为无关项，无法加强，排除；

C项：该项说明如果新冠病毒传播具有长期性和反复性，人们仍会坚持“云端生活”，但在新冠疫情结束后人们是否仍会坚持“云端生活”不确定，属于不明确选项，无法加强，排除；

D项：该项说明“无接触”消费习惯一经养成就会形成路径依赖，形成依赖后就一直会进行“无接触”消费，那么无接触经济就会在未来得到快速发展，补充论据，可以加强，当选。

故正确答案为D。

38、本题属于数独型分析推理，找确定信息以及最大信息结合选项快速做题。每行均要填上“德”“能”“勤”“绩”“廉”5个字，不能重复，因此第一行“？”处不能填入“勤”、“绩”，排除C项；第二行“？”处不能填入“能”，排除A项。信息量最大的空格为第二行第4个空，根据横行可知不能填入“能”，根据竖列可知不能填入“绩”、“德”、“勤”，因此只能填入“廉”，所以第二行“？”处不能填入“廉”，排除B项。

故正确答案为D。

39、第一步：找论点和论据。

论点：崔氏生前喜爱驴鞠运动。

论据：考古人员发掘了一处墓葬，墓主为唐博陵郡夫人崔氏，出土了驴骨、铅马镫等陪葬物品。墓中陪葬的驴体型较小，肱骨异常。

论点论据话题不一致，优先考虑搭桥，即在用驴陪葬和喜爱驴鞠运动之间建立联系。

第二步：逐一分析选项。

A项：选项说明体格较小的驴可能是用作其他目的，但不明确其他目的是否是驴鞠，不能加强，排除；

B项：选项说明驮兽的骨干形态与长期运动的动物之间的差别，与崔氏生前是否喜爱驴鞠运动无关，为无关项，排除；

C项：选项说明崔氏用驴陪葬的目的是希望死后也能参加驴鞠运动，在用驴陪葬和喜爱驴鞠运动之间建立联系，为搭桥项，可以加强，当选；

D项：选项说明唐朝女性选择体型较小的驴来打球，并不明确崔氏是否喜欢驴鞠运动，不能加强，排除。

故正确答案为C。

40、第一步：分析题干。

①丁《论语》→甲《史记》且乙《史记》

②甲《论语》或乙《论语》→丁《论语》

③丁《唐诗三百首》或丙《唐诗三百首》→己《史记》

第二步：根据题干条件分析选项。

对条件①和②进行串联：甲《论语》或乙《论语》 \rightarrow 丁《论语》 \rightarrow 甲《史记》且乙《史记》。假设甲和乙都选择《史记》是假话，即甲和乙有一人没有选择《史记》，根据推理规则，否后必否前，得到丁不选择《论语》，进而得到甲和乙都不选择《论语》，根据题干条件可知，甲和丙选择相同，可以得到丙也不选择《论语》，且丁和己选择也相同，所以己也不选择《论语》，现在五个人都不选择《论语》，根据题干条件可知，每本书至少有2人选择，故与题干矛盾，所以甲和乙必须选择《史记》，那么丙也必须选择《史记》，根据条件③进行假设，假设己选择《史记》，那么丁也一定选择《史记》，则有5个人选择同一本书，根据题干条件可知，每本书最多有4人选择，与题干相矛盾，可以得到己一定不选《史记》，根据推理规则，否后必否前，可以得到丁和丙都不能选择《唐诗三百首》，那么己和甲也不能选择《唐诗三百首》，则得到戊和乙选择《唐诗三百首》，可以推出乙一定选择《史记》和《唐诗三百首》，只有B项符合。

故正确答案为B。

41、根据题干“……比上年增长的数额”，结合选项“……万亿元”，可判定本题为增长量计算问题。定位文字材料第一、二段可知，2020年江苏省GDP总额为10.27万亿元，全年增速为3.7%。根据

$$\text{增长量} = \frac{\text{现期量}}{1 + \text{增长率}} \times \text{增长率}$$

，则2020年江苏省实现GDP比上年增长的数额

$$= \frac{10.27}{1 + 3.7\%} \times 3.7\% \approx \frac{10.27}{1 + \frac{1}{25}} \times \frac{1}{25} = \frac{10.27}{26} = 0.395 \text{ 万亿元，与B选项最接近。}$$

故正确答案为B。

42、根据题干“……占……比重与上年相比”，结合选项“增加/减少了……百分点”，可判定本题为两期比重计算问题。定位文字材料第一、二、四段可知，2020年江苏省实现GDP达10.27万亿元（B），全省GDP同比增长3.7%（b）；一般公共预算收入达到9059.0亿元（A），同比增长2.9%（a）。根据

$$\text{两期比重差} = \frac{A}{B} \times \frac{a-b}{1+a}$$

$a < b$ ，则与上年相比，2020年一般公共预算收入所占比重下降； $|\text{两期比重差}| < |a-b| = |2.9\% - 3.7\%| = 0.8\%$ ，则2020年江苏省一般公共预算收入所占比重较上年减少不到0.8个百分点，仅C选项符合。

故正确答案为C。

43、定位文字资料第三段可知，四季度，江苏企业景气指数达127.8，比上年同期高5个点；江苏企业家信心指数达129.1，比上年同期高5.4个点。则2019年第四季度江苏省的企业家信心指数为： $129.1 - 5.4 = 123.7$ ；企业景气指数为： $127.8 - 5 = 122.8$ 。故2019年第四季度江苏省的企业家信心指数比企业景气指数高 $123.7 - 122.8 = 0.9$ 个点。

故正确答案为A。

44、根据题干“2020年……比重”，结合材料时间为2020年，可判定本题为现期比重问题。定位文字材料第

六段可知：机电设备、高新技术产品出口占全省出口总额的比重分别为 66.8% 和 37.2%。由于 $66.8\% + 37.2\% = 104\% > 100\%$ ，证明机电设备与高新技术产品出口有交叉，则高新技术产品出口额中机电设备出口额占全省出口总额的比重至少为 $104\% - 100\% = 4\%$ 。故高新技术产品出口额中机电设备出口额的比重至少为 $\frac{4\%}{37.2\%} \approx 10.75\%$ 。

备注：正确答案为 10.75%，真题选项错误，选择最接近的 B 项

故正确答案为 B。

45、A 项：定位文字材料第一、二段可知，2020 年江苏省实现 GDP 增速比全国平均高出 1.4 个百分点，全省 GDP 同比增速回升至全年增长 3.7%。则 2020 年全国 GDP 增速为 $3.7\% - 1.4\% = 2.3\%$ ，正确；

B 项：定位文字材料第三段可知，2020 年江苏省新登记市场主体 267.6 万户，同比增长 45.0%。根据公式： $\frac{\text{现期}}{\text{基期量}} = \frac{1}{1+r}$ ，则 2019 年江苏省的新登记市场主体数为 $\frac{267.6}{1+45.0\%} = \frac{267.6}{1.45} \approx 184.6$ 万户，正确；

C 项：定位文字材料第七段可知，2020 年江苏省居民人均可支配收入由一季度增长 1.5%、上半年增长 2.3%、前三季度增长 4.0%，回升至全年增长 4.8%。因为上半年=一季度+二季度，根据混合增长率口诀“混合后居中”，由于上半年增长率 2.3% > 一季度增长率 1.5%，则第二季度增长率 > 2.3%；同理，第三季度增长率 > 前三季度增长率 4.0% > 上半年增长率 2.3%；第四季度增长率 > 全年增长率 4.8% > 前三季度增长率 4.0%。即各个季度江苏省居民人均可支配收入均实现了正增长，正确；

D 项：定位文字材料第五段，已知 2020 年江苏省战略性新兴产业产值占规模以上工业产值比重达 37.8%，比上年提高 5 个百分点。则 2019 年江苏省战略性新兴产业产值占规模以上工业产值的比重为 $37.8\% - 5\% = 32.8\% < \frac{1}{3}$ ，错误。

本题为选非题，故正确答案为 D。

46、根据题干“2020 年第四季度……环比增速是”，可判定本题为一般增长率问题。定位表格材料可知，2020 年各个月份软件业务收入累计值，则：2020 年第四季度软件业务收入 = 81616.0 - 58387.1 ≈ 23229 亿元；

2020 年第三季度软件业务收入 = 58387.1 - 35609.3 ≈ 22778 亿元。根据公式： $\text{增长率} = \frac{\text{现期量} - \text{基期量}}{\text{基期量}}$ ，
则 2020 年第四季度软件业务收入环比增速 = $\frac{23229 - 22778}{22778} = \frac{451}{22778} \approx 2\%$ 。

故正确答案为 A。

47、定位表格可知，2020 年 6 月-12 月全国嵌入式系统软件收入累计值分别为：6 月 3892.0 亿元、7 月 4655.4 亿元、8 月 5417.8 亿元、9 月 6365.5 亿元、10 月 6856.3 亿元、11 月 7479.0 亿元、12 月 7492.3 亿元。故 2020 年 7 月全国嵌入式系统软件收入为 $4655.4 - 3892.0 = 700^+$ 亿元；9 月全国嵌入式系统软件收入为

$6365.5 - 5417.8 = 900^+$ 亿元；10月全国嵌入式系统软件收入为 $6856.3 - 6365.5 = 400^+$ 亿元；12月全国嵌入式系统软件收入为 $7492.3 - 7479.0 = 20^-$ 亿元。则2020年下半年全国嵌入式系统软件收入最高的月份是9月。

故正确答案为B。

48、根据题干“2020年…占…的比重相差”，结合材料时间为2020年，可判定本题为现期比重问题。定位表格材料可知，2020年12月，全国软件产品收入累计值为22757.7亿元，全国信息技术服务收入累计值为49867.7

亿元，全国软件业务收入累计值为81616.0亿元。根据 $\text{比重} = \frac{\text{部分量}}{\text{总体量}}$ ，则2020年全国软件产品、信息技术服务收入占软件业务收入的比重差为 $\frac{2020\text{年全国信息技术服务收入} - 2020\text{年全国软件产品收入}}{2020\text{年全国软件业务收入}} = \frac{49867.7 - 22757.7}{81616.0} = \frac{27110}{81616.0} \approx \frac{27110}{81600} \approx 33\%$ 。

故正确答案为C。

49、定位文字材料，“2020年全国软件业务收入81616.0亿元……其中：软件产品收入22757.7亿元……信息技术服务收入49867.7亿元……嵌入式系统软件收入7492.3亿元”。故其他软件业务收入 $= 81616.0 - 22757.7 - 49867.7 - 7492.3 = 1498.3$ 亿元。

故正确答案为D。

50、A项：定位表格可知，2020年1-4月份全国软件业务收入累计值为20829.6亿元，同比增速为 -0.1% ；1-3月份全国软件业务收入累计值为14087.5亿元，同比增速为 -6.2% ，则2020年4月份，全国软件业务收入为 $20829.6 - 14087.5 = 6742.1$ 亿元。根据混合增长率结论“混合后居中，偏向量大的”，可知2020年4月份全国软件业务收入的同比增速 $r > -0.1\%$ ；且 $-0.1\% - (-6.2\%) < r - (-0.1\%)$ ，解得 $r > 6\%$ ，为正值，错误；

B项：定位表格可知，2020年1-12月份全国软件产品收入的同比增速是 10.0% ；2020年1-11月份全国软件产品收入的同比增速是 10.0% 。则2020年12月份全国软件产品收入的同比增速也是 10.0% ，正确；

C项：定位表格可知，2020年1-3月份（即第一季度）全国信息技术服务收入同比增速为 -2.3% ，错误；

D项：定位表格可知，2020年1-12月份全国嵌入式系统软件收入的同比增速是 12.0% ；2020年1-11月份全国嵌入式系统软件收入的同比增速是 5.0% 。根据混合增长率的结论“混合后居中”，可知2020年12月份全国嵌入式系统软件收入的同比增速大于 12.0% ，错误。

故正确答案为B。