

2020 年广东事业单位招聘高校应届生  
《基本能力测试》试题

公考通网校

[www.chinaexam.org](http://www.chinaexam.org)



公考通 APP



微信公众平台

## 2020年广东事业单位招聘高校应届生《基本能力测试》试题

一、常识应用。该部分含三类题型，分别为判断题，单项选择题，多项选择题。请根据题目要求，选出合适的选项。

1、我国坚持一切行政机关为人民服务、对人民负责、受人民监督、创新行政方式，提高行政效能，建设人民满意的服务型政府。（ ）

2、党的十九大报告指出，实施乡村振兴战略的总要求是产业兴旺、生态宜居、乡风文明、治理有效、生活富裕。（ ）

3、为人民群众提供全方位全周期健康服务是民族昌盛和国家富强的重要标志。（ ）

4、让老百姓过上好日子是中国共产党一切工作的出发点和落脚点。（ ）

5、深化党和国家机构改革，必须以可持续发展为统领。（ ）

6、改革开放之后，中国共产党对我国社会主义现代化建设作出战略安排，提出“三步走”战略目标。解决人民温饱问题、人民生活总体上达到小康这两个目标已提前实现。（ ）

7、脱贫县到2020年底，我国现行标准下脱贫攻坚的目标任务包括贫困发生率从百分之十点二下降到百分之四以下，脱贫县基本摘帽。（ ）

8、党的十九大报告指出，经济体制改革必须以完善产权制度和要素市场化配置为重点。（ ）

9、建设人与自然和谐共生的现代化，必须坚持发展优先、治理紧随、人工保护为主的方针。（ ）

10、增进人民福祉，促进人的全面发展是中国共产党立党为公、执政为民的本质要求。（ ）

11、党的十八届三中全会首次提出“推进国家治理体系和治理能力现代化”这个重大命题。（ ）

12、我国要加快完善社会主义市场经济体制，建设高标准市场体系。物价长期固定是高标准市场体系特征之一。（ ）

13、社会主义市场经济体制是中国特色社会主义的重大理论和实践创新，是社会主义基本经济制度重要组成部分。（ ）

14、“物以稀为贵”这种现象反映了生产力水平对价格的影响。（ ）

15、《关于支持深圳建设中国特色社会主义先行示范区的意见》对深圳特区精神进行了概括，敢闯敢试、敢为人先、埋头苦干是特区精神的主要内容。（ ）

A、正确

B、错误

16、根据我国《宪法》和《立法法》，广州市人民政府有权制定地方性法规。（ ）

17、根据《中华人民共和国民法典》，小区电梯广告收益归物业服务企业所有。（ ）

18、根据《中华人民共和国国家安全法》，维护国家主权、统一和领土完整是包括港澳同胞和台湾同胞在内的全中国人民的共同义务。（ ）

19、根据《中华人民共和国国旗法》，中小学应当每日升挂国旗。（ ）

20、根据我国法律规定，赡养、扶助和保护父母是所有子女的义务。（ ）

21、习近平总书记提出的“蓄电池理论”认为，人的一生只充一次电的时代已经过去，只有成为一块高效蓄电池，进行不间断的、持续的充电，才能不间断地持续地释放能量。这主要体现了（ ）的哲学原理。

- A、量变引起质变
- B、联系具有普遍性
- C、矛盾具有特殊性
- D、新事物代替旧事物

22、《关于构建现代环境治理体系的指导意见》提出构建党委领导、政府主导、企业主体、社会组织和公众共同参与的现代环境治理体系。以下做法有助于构建现代环境治理体系的有（ ）。

- (1) 省级党委和政府对本地区环境治理负总体责任
- (2) 完善企业环保信用评价制度
- (3) 鼓励企业参与绿色“一带一路”建设
- (4) 工会、共青团、妇联等群团组织要积极动员广大职工、青年、妇女参与环境治理

- A、(1) (2) (3)
- B、(1) (3) (4)
- C、(2) (3) (4)
- D、(1) (2) (3) (4)

23、构建更加完善的要素市场化配置体制机制，需要畅通要素流动渠道，保障不同市场主体平等获取生产要素。以下措施与引导劳动力要素合理畅通有序流动最密切相关的是（ ）。

- A、放开放宽除个别超大城市外的城市落户限制
- B、建立国家技术转移人才培养体系，提高技术转移专业服务能力
- C、着重保护劳动所得，提高劳动报酬在初次分配中的比重
- D、完善失信行为认定、失信联合惩戒、信用修复等机制

24、党的十九届四中全会提出，坚持和完善人民当家作主制度体系，发展（ ）。必须坚持人民主体地位，坚定不移走中国特色社会主义政治发展道路，确保人民依法通过各种途径和形式管理国家事务，管理经济文化事业，管理社会事务。

- A、民族区域自治制度
- B、社会主义民主政治
- C、最广泛的爱国统一战线
- D、中国特色社会主义行政体制

25、当前，我国国家安全内涵和外延比历史上任何时候都要丰富，时空领域比历史上任何时候都要宽广，内外因素比历史上任何时候都要复杂，必须坚持总体国家安全观。我们所坚持的总体国家安全观要求（ ）。

- (1) 既重视外部安全，又重视内部安全
- (2) 既重视国土安全，又重视国民安全
- (3) 既重视传统安全，又重视非传统安全
- (4) 既重视发展问题，又重视安全问题
- (5) 既重视自身安全，又重视共同安全

- A、(1) (2) (3)
- B、(1) (2) (4) (5)
- C、(1) (2) (3) (4)
- D、(1) (2) (3) (4) (5)

26、2020年，国家要求加快推进国家规划已明确的重大工程和基础设施建设，包括加快5G网络、数据中心等新型基础设施建设进度，以下属于新型基础设施的是（ ）。

- A、物联网
- B、大型机场
- C、高速公路
- D、城市轨道交通

27、习近平总书记从战略和全局高度，分析了当前和今后一个时期我国面临的安全形势，阐明了需要着力防范化解的重大风险。下列选项中，不属于针对科技领域防范化解重大风险措施的是（ ）。

- A、切实解决中小微企业融资难融资贵问题
- B、加快补短板，建立自主创新的制度机制优势
- C、抓紧布局国家实验室，重组国家重点实验室体系
- D、围绕人工智能、基因编辑等领域，加快推进相关立法工作

28、《中华人民共和国民法典》规定民事主体从事民事活动。应当有利于节约资源、保护生态环境。这条规定主要体现了民法典的（ ）。

- A、平等原则
- B、绿色原则
- C、自愿原则
- D、守法和公序良俗原则

29、粤港澳大湾区由香港、澳门两个特别行政区和广东省九个珠三角城市组成，是中国开放程序最高、经济活力最强的区域之一。关于粤港澳大湾区，以下说法不正确的是（ ）。

- A、粤港澳大湾区属于亚热带季风气候
- B、粤港澳大湾区以客家文化作为核心文化
- C、以香港、澳门、广州、深圳、珠海五大中心城市作为区域发展核心引擎
- D、粤港澳大湾区在国家发展大局中具有重要战略地位

30、我国东南沿海是台风高发的地区，以下关于应对台风的方法不正确的是（ ）。

- A、固定门窗玻璃，以防破碎
- B、外出时，要避免在河边、桥边行走
- C、当发布台风红色预警信号时，学校应当停课
- D、正在驾驶时，应立即将车辆开到开阔的地方避险

31、习近平总书记指出，要在党中央集中统一领导下，始终把人民群众生命安全和身体健康放在第一位，从立法、执法、司法各环节发力，全面提高依法防控，依法治理能力。为疫情防控工作提供有力法治保障。这句话主要体现了新时代坚持和发展中国特色社会主义的基本方略中的（ ）。

- A、坚持党对一切工作的领导
- B、坚持以人民为中心
- C、坚持全面依法治国
- D、坚持推动构建人类命运共同体

32、我国从2016年开始连续实施大规模减税降费政策，减税降费范围、项目、规模都呈现大规模增长。我国大规模减税降费有利于（ ）。

- A、增强我国经济的抗风险能力
- B、助推供给侧结构性改革、激发市场活力
- C、降低企业负担，解决企业困难
- D、让百姓减负，享实惠，促进消费

33、“国无德不兴，人无德不立。”要在乡村治理中实现乡村德治，可以采取的措施有（ ）。

- A、在农村培育和践行社会主义核心价值观
- B、制定实施村民道德公约
- C、加强农村法治宣传教育
- D、弘扬中华优秀传统文化

34、《中共中央国务院关于抓好“三农”领域重点工作确保如期实现全面小康的意见》提出，对标全面建成小康社会要求，加快补上农村基础设施和公共服务短板。以下有助于补齐农村基础设施和公共服务短板的有（ ）。

- A、某行政村实现农村普惠性幼儿园全覆盖

- B、某镇积极推进村集中供水设施及配套管网建设
- C、某县财政加大投入，改造当地农村公路
- D、某镇举办中国农民丰收节庆祝活动

35、科技创新是提高社会生产力和综合国力的战略支撑，必须摆在国家发展全局的核心位置。以下举措体现了我国深入实施创新驱动发展战略，进一步提升创新能力和效率的有（ ）。

- A、深化科技体制改革
- B、培育经济高速增长动力源
- C、支持基础研究
- D、大力弘扬科学精神

36、教育是国之大计、党之大计。为全面贯彻党的教育方针，坚持优先发展教育事业，努力办好人民满意的教育，以下措施恰当的有（ ）。

- A、坚持社会主义办学方向，把立德树人作为教育的根本任务
- B、深化思想政治理论课程改革创新
- C、加强和改进学校体育美育
- D、广泛开展劳动教育，发展素质教育

37、我国民法典规定，民事主体依照法律规定或者按照当事人约定，履行民事义务，承担民事责任，以下承担民事责任的方式正确的有（ ）。

- A、撤销资格
- B、停止侵害
- C、返还财产
- D、赔礼道歉

38、根据我国《突发事件应对法》，以下属于事故灾难的是（ ）。

- A、大地震
- B、煤矿透水事故
- C、新冠肺炎疫情
- D、槽罐车爆炸事故

39、根据《中华人民共和国环境保护法》，国家在重点生态功能区、生态环境敏感区和脆弱区等区域划定生态保护红线，实行严格保护。以下属于各级人民政府应当采取措施予以保护、严禁破坏的区域有（ ）。

- A、重要的水源涵养区域
- B、珍惜、濒危的野生动植物自然分布区域
- C、具有代表性的各种类型的自然生态区域

D、具有重大科学文化价值的地质构造

40、2020年夏季，习近平总书记对长江、淮河等流域的防汛救灾工作作出重要指示，要求尽最大努力保障人民群众生命财产安全。以下属于2020年夏季防汛沿线湖泊的有（ ）。

- A、洞庭湖
- B、万绿湖
- C、鄱阳湖
- D、青海湖

二、言语理解与表达。根据题干，在下列四个选项中，选出一个最恰当的答案。

41、发展与问题总是相伴而生。近代中国面对民族存亡的问题，新中国面对巩固并保住人民胜利成果的问题，改革开放过程中面对姓“资”姓“社”问题，每个阶段都是在“破题生长”。如今，踏平坎坷迈入新时代，改革发展的种种问题仍是复杂多样的，这不意味着遇到问题就可以躲着走，没看见，而是要有看待问题的眼光，分析问题的理性，解决问题的能力，预判问题的机制，防范问题的警觉，归根结底就是要以问题为导向。我们说发扬斗争精神，增强斗争本领，何尝不是敢于，勇于，善于向一系列问题开刀。对上述文段概括准确的是（ ）。

- A、推动发展需要坚持问题导向
- B、发展过程就是解决问题的过程
- C、发展的不同阶段面对的问题也不同
- D、面对问题的态度决定了发展的方向

42、积极学习人类文明成果，充分借鉴其他国家的好经验，好做法，是推进国家治理体系和治理能力现代化的一个重要方法，但“\_\_\_\_\_”。学习外国不等于一切照搬，照抄照搬别国经验、别国模式，是从来都不会取得成功的。

填入划线部分最恰当的是（ ）。

- A、画虎不成反类犬
- B、前事不忘，后事之师
- C、依葫芦画瓢
- D、橘生淮南则为橘，生于淮北则为枳

43、领导留言板为普通老百姓反映诉求、提出建议提供了更加直接、方便快捷的渠道，也为地方领导干部体察民意为民解忧打开了新窗口。在这里，百姓反映问题有人回应，建言献策有人采纳，在这里，每个回帖都是负责的态度，庄严的承诺；领导干部们扑下身子与民众对话，超越了网友间的普通互动，展示了人民公仆甘为孺子牛的工作态度，折射由人民政府执政为民的精神风貌。

上述文段主要说明了（ ）。

- A、领导留言板的内容

- B、领导留言板的意义
- C、领导留言板的形式
- D、领导留言板的背景

44、受疫情影响，一些市场主体正常经营遇到较大困难，必须采取切实有效举措为市场主体营造良好的市场环境。首先，积极的财政政策要更加有为，通过减税降费、减租减息等，主动帮助企业降成本、增收益。其次，稳健的货币政策要更加灵活适度。通过创新直达实体经济的货币政策工具，让企业能够便利的获得贷款。再次，应当进一步扩大内需、促进消费升级，为企业创造更多投资机会。

这段文字主要说明了（ ）。

- A、新冠肺炎疫情对经济造成的影响
- B、常态化疫情防控的措施
- C、激发市场主体活力的路径
- D、营造良好市场环境的意义

45、很多人希望，在任何情况下脸部信息的收集、使用，都应以“充分告知+明示同意”为前提；企业或机构则担心，如果个人被过度赋权，会影响信息的合理收集和利用，有碍增进公共利益，事实上，从产业发展角度看，大数据时代的个人信息是国家基础性战略资源，综合考量社会、产业、个人等不同层面的诉求，求取最大公约数，才能与时俱进加强个人信息保护。同时促进相关产业健康发展。

对本段文字理解最为准确的是（ ）。

- A、大数据时代个人信息面临着天然的泄露风险
- B、人脸识别技术的推广需要绝对尊重个人意愿
- C、国家在个人信息保护方面发挥着决定性作用
- D、不同主体对于个人信息的应用有着不同诉求

46、“没有买卖，就没有杀戮”，作为生物多样性丧失的重要驱动因素，野味贸易不仅使黑猩猩、穿山甲这些物种遭受灭顶之灾，也大大削弱了森林、湿地、草原等生态系统提供优质生态产品的能力。自然界的生态平衡犹如一张环环相扣的大网，任何一个物种都是网上不可或缺的一环，每种生物的灭绝都会使这张“生态之网”出现孔洞，从而给人类赖以生存的自然环境带来潜在的生态危机。对这段文字总结最恰当的是（ ）。

- A、全面禁止野味贸易势在必行
- B、保护野生动物就是在保护人类自己
- C、野味贸易威胁着地球生态系统平衡
- D、每一个物种都是生态系统的重要一环

47、晚清以降，广府人在中国的政治、经济文化的演进中，一直扮演着引领潮头的重要角色。无论是梁启超、康有为和孙中山等在政治舞台上的叱咤风云，还是改革开放之后港商港星们的风靡神州，亦或是散布于世



界各地唐人街上的异彩纷呈，都让我们对这些说粤语的人们多看一眼，也会对广府文化存着更深的认识。

这段文字的主要内容是（ ）。

- A、广府名人遍布世界各地
- B、广府文化在世界传播
- C、近代以来广府文化的影响力
- D、广府人在近现代史上的地位

48、在信息爆炸的互联网时代，有人认为，象征着新闻精神的传统媒体只会日渐衰老至死，但在这场疫病中，最具决定性的一系列优秀报道都来自它们，危机中，传统媒体实现了一次“意外破圈”。大众重新意识到专业新闻素养的重要性，意识到除了社交媒体外，应该更多地去关注和支持传统新闻业。

以下选项最有可能符合作者观点的是（ ）。

- A、传统媒体在信息爆炸时代的生存空间越来越窄
- B、社交媒体无法制作出优秀的新闻报道
- C、专业新闻素养是判定媒体优秀的重要标准
- D、传统新闻业需要人们更多的关注和支持

49、将下列句子重新排序，最恰当的是（ ）。

①一个人一旦有了对远大志向的追求，就会眼界开阔，凡事从利于长远发展的角度出发，从而获得强大的内生动力，以坚韧的毅力和不懈的努力成就事业

②事实证明，没有从长谋划、计天下利的抱负，没有定力如磐、不惧艰险的意志，没有滴水穿石、久久为功的执着，就难以铸就丰功伟业

③志不强者智不达，行不怠者事方成

④自此，灾害多发之地，变为“水旱从人”“沃野千里”的天府之国，不仅使当时的百姓丰收增产，而且历经 2000 多年风雨侵蚀，至今仍福泽着人民群众

⑤战国时期，蜀郡太守李冰上任之初，见蜀郡灾情严重，群众苦不堪言，便立志治理水患，倾注一生的心血，建成了都江堰水利工程

- A、①②③④⑤
- B、②③⑤①④
- C、③①⑤④②
- D、⑤④③②①

50、将下列句子重新排序，最恰当的是（ ）。

①从这个层面上看，修护老屋不能只算“经济账”，还要算“文化账”。

②同时，保存着农业文明印记的老屋，还将为现代建筑提供可资借鉴的传统智慧。

③单纯从经济角度看，维修老屋或许还不如重建新房“划算”。

④所以，保护老屋的“形”，实则是传承传统文化的“神”，保留传统村落的“魂”。

⑤但作为古代历史与地域文化的工艺，完美标本，民居里的土木结构，隼勒雕砖画壁，构成了中式建筑的美学意蕴，保留了一代代人的乡愁和记忆。

A、③①⑤④②

B、③⑤②④①

C、③④⑤②①

D、③⑤①④②

三、数量关系。根据题干，在下列四个选项中，选出一个最恰当的答案。

51、4, 7, 10, 13, ( )。

A、15

B、16

C、17

D、18

52、14, 10, 6, 2, ( )。

A、-2

B、-1

C、0

D、1

53、3, 6, 12, 24, ( )。

A、30

B、36

C、42

D、48

54、192, 96, 48, 24, ( )。

A、8

B、12

C、16

D、20

55、3, 5, 8, 12, ( )。

A、17

B、22

C、24

D、30

56、1, 1, 2, 6, 24, ( )。

A、72

B、96

C、120

D、144

57、2, 3, 5, 9, 17, ( )。

A、22

B、33

C、44

D、55

58、2.0, 0.2, 2.2, 2.4, ( )。

A、0.5

B、2.5

C、4.6

D、6

59、2, 9, 28, 65, ( )。

A、108

B、114

C、120

D、126

60、21, 33, 45, 57, ( )。

A、59

B、62

C、65

D、69

61、某办公室领取了一批签字笔，平均分给7名工作人员，每人分得2支，还剩下4支，则这批签字笔的总数为( )支。

A、15

B、18

C、21

D、24

62、某操场有一块圆形草坪，若沿草坪边缘每隔 3 米插一面彩旗，正好插上 20 面彩旗。则这块草坪的周长为（ ）米。

A、15

B、30

C、45

D、60

63、某食堂每天午餐提供套餐，包含主食和肉菜各 1 种，青菜 2 种。用餐者可以从 2 种主食，2 种肉菜和 3 种青菜中进行选择，那么食堂每天售出的套餐中有（ ）种可能的搭配？

A、7

B、9

C、12

D、24

64、小王和小李报名参加一项党政知识竞赛活动，按比赛规则，答对一题得 2 分，答错一题扣 1 分，不答不得分。小王比小李多答对了 5 题，但总分比小李少了 5 分，则小王比小李多答错（ ）题。

A、5

B、10

C、15

D、20

65、现在两根不同长度的绳子，已知长绳对折后比短绳长 1.2 米，折成三段后则比短绳短了 0.3 米，那么短绳长（ ）米。

A、3.3

B、4.3

C、5.3

D、6.3

66、某企业节日聚会计划购买一批饮料，如果购买 5 箱咖啡和 3 箱牛奶共计需要花费 450 元，如果购买 3 箱咖啡和 2 箱牛奶共计需要花费 280 元，则每箱咖啡的价格为（ ）元。

A、60

B、70

C、80

D、90

67、某公司组织员工义务献血，有一半的员工都参与了献血。该公司员工中的男性与女性的比例为3:2，参与了献血的员工中男性与女性比例是7:3。则未参与献血的员工中，男性与女性的比例为（ ）。

A、1:1

B、2:1

C、3:1

D、4:1

68、绿化公司购进一批树苗，安排工人们去种植，每人分24棵树苗，最后还剩下8棵，如果再购进180棵，加上剩余的正好可以给每个工人再分4棵，则原来一共有（ ）棵树苗。

A、1088

B、1136

C、1184

D、1232

69、某街道开展出租屋人员情况摸查，要求在规定的时间内完成。如果由甲工作小组单独负责，则刚好可以在规定时间完成。如果由乙工作小组单独负责，则需要比规定时间多用4天才能完成。如果先由甲乙两个工作组一起工作3天，剩余全部由乙工作小组负责，则刚好可以在规定时间完成。则规定的完成时间是（ ）天。

A、4

B、8

C、12

D、16

70、有两辆车身长度和时速相同的列车于同一时刻从两座车站出发相向而行，出发时两辆列车的车头相距360公里，经过1小时之后两车车头相遇，又是经过10秒之后两辆车车尾分离，则每辆列车的车身长度为（ ）米。

A、100

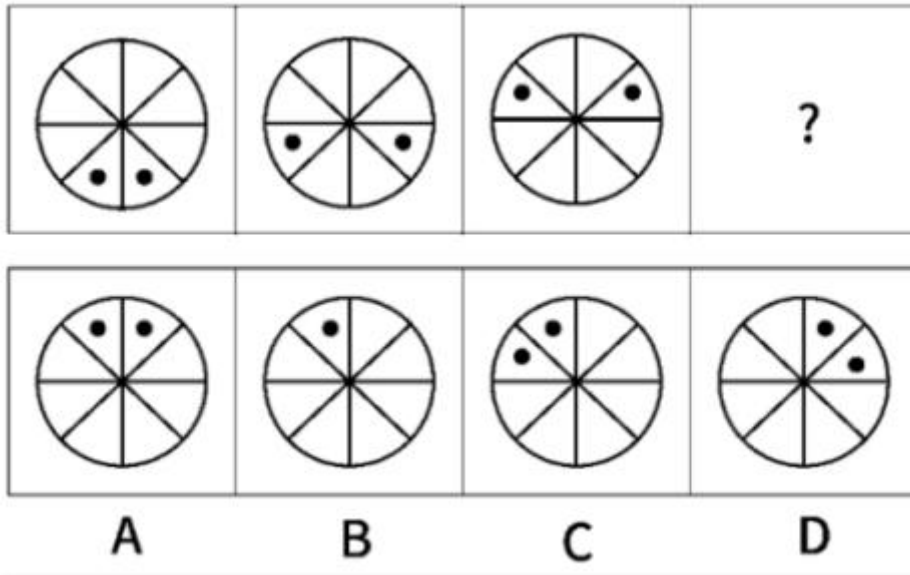
B、200

C、250

D、500

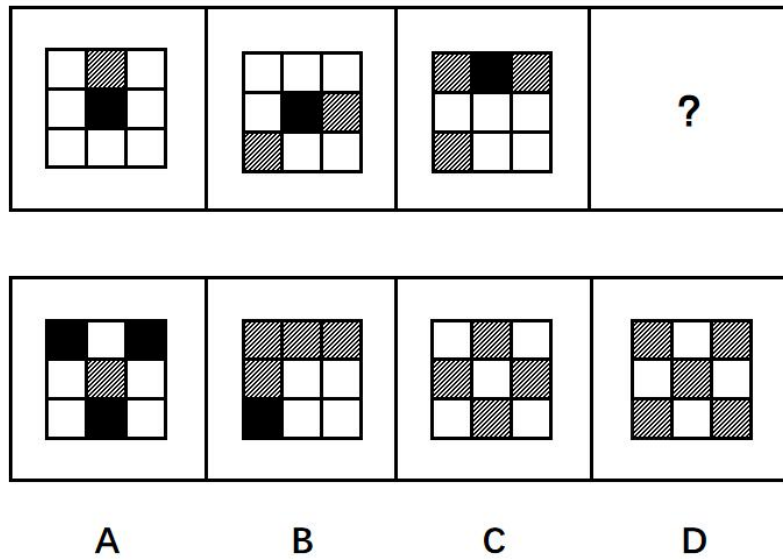
**四、判断推理。**根据题干，在下列四个选项中，选出一个最恰当的答案。

71、从所给的四个选项中，选择最合适的一个填入问号处，使之呈现一定的规律性（ ）。



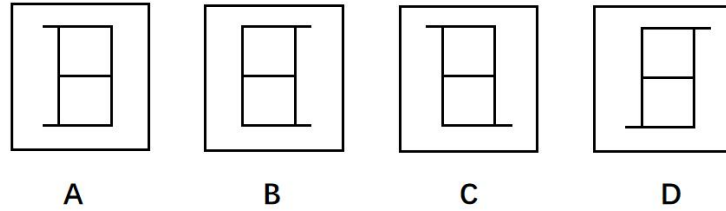
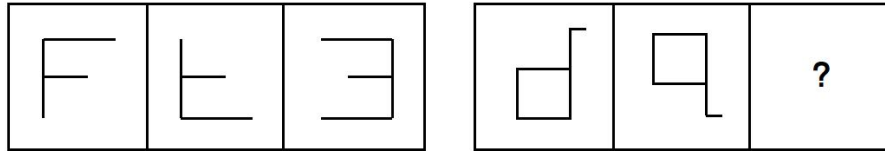
- A、A
- B、B
- C、C
- D、D

72、从所给的四个选项中，选择最合适的一个填入问号处，使之呈现一定的规律性（ ）。



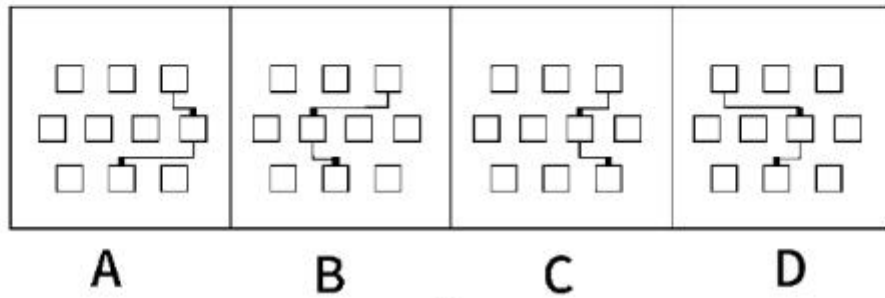
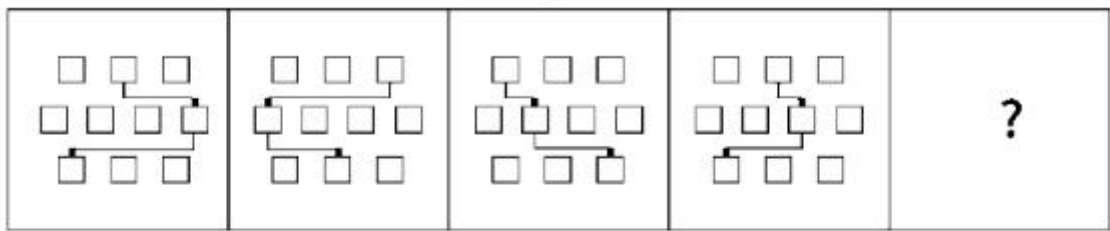
- A、A
- B、B
- C、C
- D、D

73、从所给的四个选项中，选择最合适的一个填入问号处，使之呈现一定的规律性（ ）。



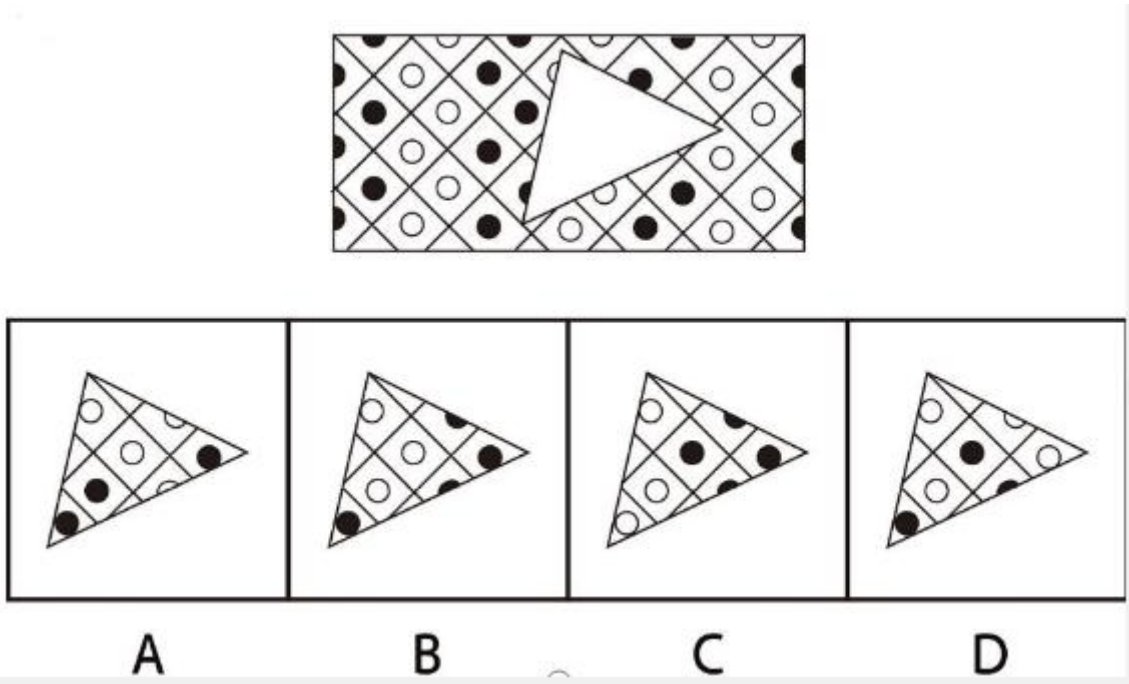
- A、A
- B、B
- C、C
- D、D

74、从所给的四个选项中，选择最合适的一个填入问号处，使之呈现一定的规律性（ ）。




- A、A
- B、B
- C、C
- D、D

75、从所给的四个选项中，选择最合适的一个填入空白处，使之呈现一定的规律性（ ）。



- A、A
- B、B
- C、C
- D、D

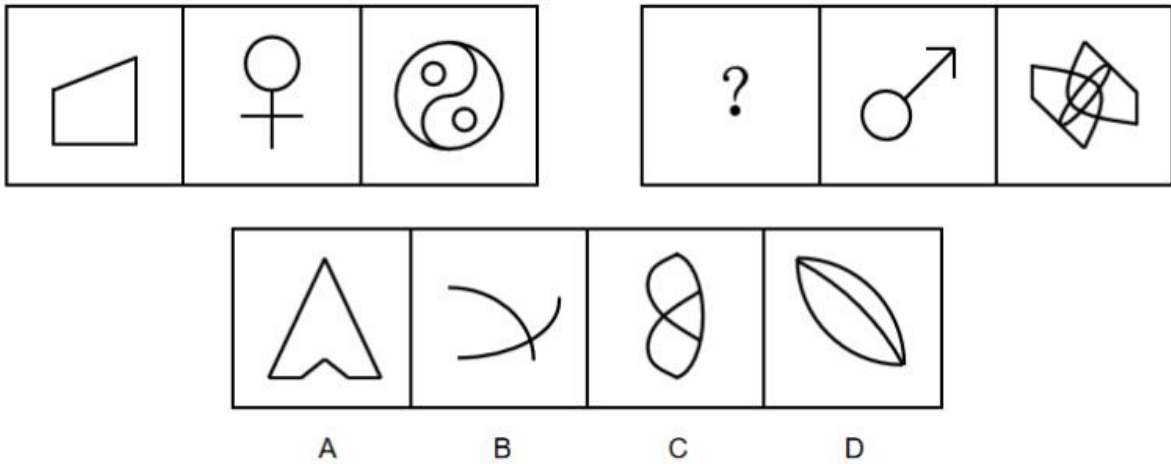
76、从所给的四个选项中，选择最合适的一个填入问号处，使之呈现一定的规律性（ ）。



- A、A
- B、B
- C、C
- D、D

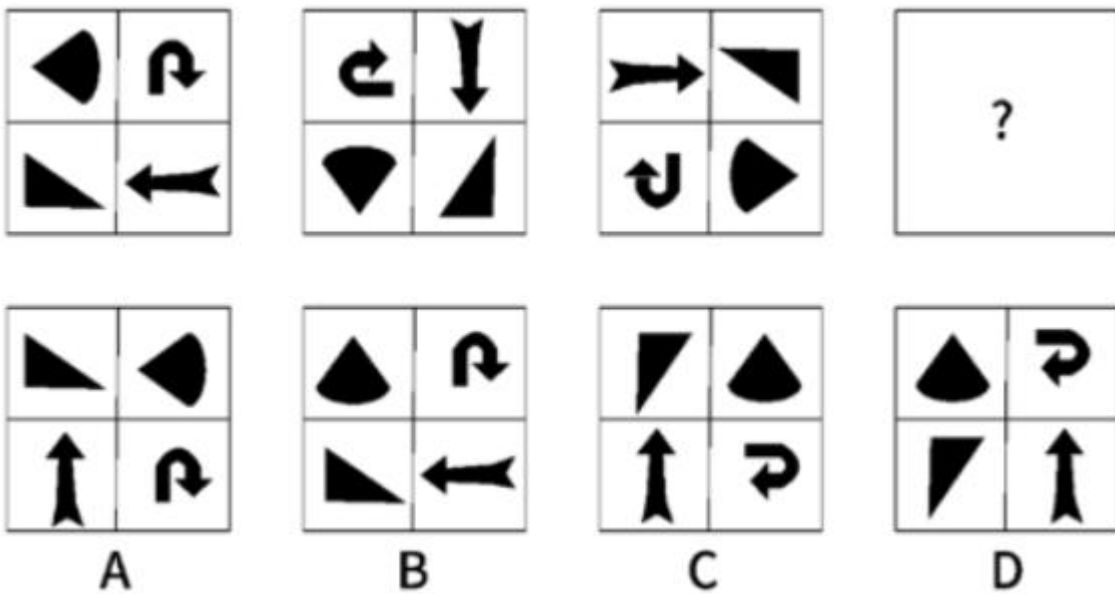
77、从所给的四个选项中，选择最合适的一个填入问号处，使之呈现一定的规律性（ ）。





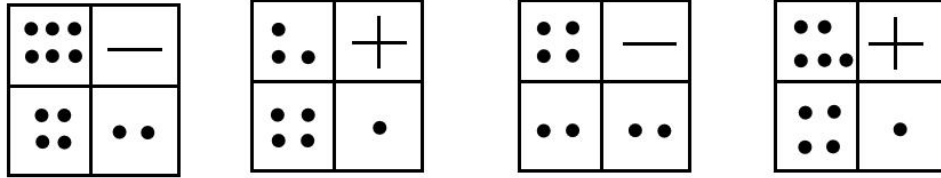
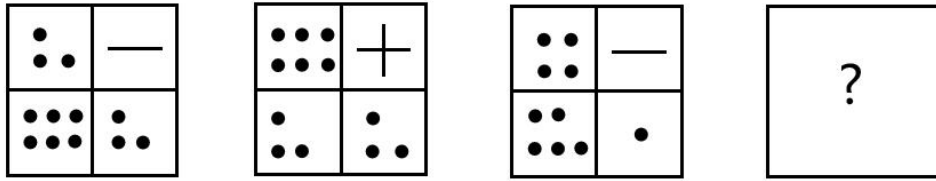
- A、A
- B、B
- C、C
- D、D

78、从所给的四个选项中，选择最合适的一个填入问号处，使之呈现一定的规律性（ ）。



- A、A
- B、B
- C、C
- D、D

79、从所给的四个选项中，选择最合适的一个填入问号处，使之呈现一定的规律性（ ）。



A

B

C

D

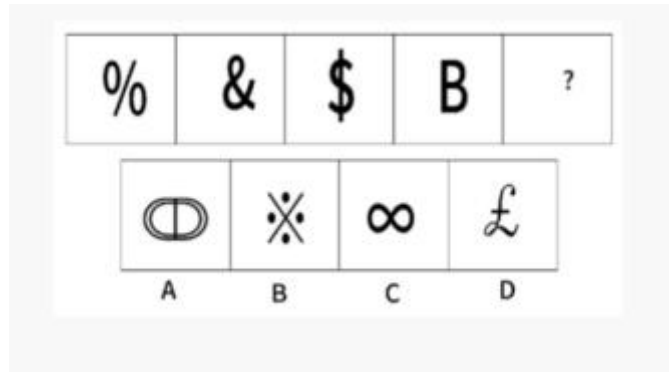
A、A

B、B

C、C

D、D

80、从所给的四个选项中，选择最合适的一个填入问号处，使之呈现一定的规律性（ ）。



A、A

B、B

C、C

D、D

81、评论员甲：防控疫情与发展经济，最多只能顾及一方。评论员乙：我不认同这个观点。以下最能准确表述评论员乙观点的是（ ）。

A、防控疫情与发展经济两者都能兼顾。

B、防控疫情与发展经济至少可以顾及一方。

C、防控疫情是发展经济发展的前提和基础。

D、经济发展能更好地推动疫情防控。

82、有研究发现，精神压力增大会导致人的植物神经或者中枢神经功能发生紊乱，抑制毛发生长功能，从而导致脱发。因此有人认为只要时刻保持心情轻松愉快，就能够避免脱发。以下选项最能指出上述论证缺陷的是（ ）。

A、默认了神经压力减小最能够加快毛发增长。

B、忽视了不同的个体精神承受能力不同。

C、忽视了人的心情往往不受自身控制的。

D、默认了不存在导致脱发的其他原因。

83、小吴家有人参与了义务植树活动，除非家里有人参与了义务植树活动，否则该家庭不可能领到“义务植树参与证”，小李家领取了“义务植树参与证”。如果以上描述为真，则下列选项中，无法判断真伪的是（ ）。

(1) 小吴家可以领取“义务植树参与证”

(2) 小李家有人参与了义务植树活动

(3) 小吴家有人未参加义务植树活动

A、仅 2

B、仅 3

C、1 和 3

D、123

84、关于恐龙灭绝的原因有这样一种推测：有花植物的花朵中含有大量毒素，由于恐龙的食量很大，植食性恐龙会因为摄入大量有花植物中毒而死，而有花植物正是从白垩纪晚期开始出现的。以下选择如果为真，最能削弱上述推论的是（ ）。

A、肉食恐龙和植食性恐龙差不多在同一时期灭绝。

B、在许多恐龙化石上都出现了争斗的痕迹。

C、在有花植物出现之前，恐龙数量已经显著减少。

D、白垩纪晚期有些恐龙群发生了传染病。

85、有研究表明，平均每年在旅游度假上消费超过 10000 元的人，月收入要显著高于不在旅游度假上消费的人，有人据此推断，是消费欲激发了这一部分人的工作热情，并最终导致了他们拥有更高的收入水平。下列选项最能指出上述论证缺陷的是（ ）。

A、忽视了每年在旅游度假上消费超过 10000 元的人在人群中占比很小。

B、忽视了消费欲很大程度上由收入水平决定。

C、默认了消费欲强的个体就会选择去旅游度假。

D、默认了工作热情是获得高收入的必要条件。

86、就算孩子认知水平比同龄人高，也最好不要提早入学和跳级，一项权威研究分析了104万儿童的数据后发现，研究对象中年龄最小的孩子被诊断出多动症和抑郁的概率分别是年龄最大的孩子的1.4倍和1.3倍。

要使上述论证成立，必须补充的前提是（ ）。

- A、该项研究数据来源于正常学校而非特殊学校
- B、该项研究数据对比的是同年级的学生
- C、该项研究数据中的学生都进行了多动症和抑郁的诊断
- D、该项研究数据中低年龄的孩子认知水平比同龄人高

87、王某出游途中，在某河道旁洗车，污水流入河道产生污染。当地政府工作人员发现后试图制止他的行为，但是他不仅不听从，反问：“我就是洗个车而已，与工业污染相比算得了啥，那些往江河湖海排污水、往大气中排污染气体的厂家，你们管得了吗？制止住了吗？”

以下最能反驳王某观点的是（ ）。

- A、制止工业污染需要付出经济代价
- B、为了保护环境，任何污染行为都应该制止
- C、生活污染对环境的破坏不亚于工业污染
- D、当地政府已经多次查处违法企业的偷排行为

88、大多数真菌主要依靠孢子进行繁殖，然而有的真菌如酵母菌也可以进行出芽生殖，因此并非所有真菌都通过孢子进行繁殖。

以下与上述论证方式一致的是（ ）。

- A、软体动物是无脊椎动物的一种，章鱼属于软体动物，所以章鱼属于无脊椎动物
- B、细菌是一种单细胞生物，而病毒没有完整的细胞结构，因此病毒并不属于细菌
- C、大多数杉树属于常绿乔木，但是也有少数种类如落羽杉属于落叶乔木，因此不是所有的杉树都是常绿乔木
- D、大多数鸟类都会飞翔，然而鸵鸟和企鹅却并不会飞，因此鸵鸟和企鹅并非鸟类

89、多数家长认为，虽然受疫情影响，教育机构普遍遭受了很大的损失，但线下课与线上课的效果差异很大，因此，教育机构不应该把线下课强行转到线上却不退差价。

下列选项中最不能支持家长的观点是（ ）。

- A、目前许多教育机构已经逐步恢复线下课
- B、线上课程无人监管，很多孩子在玩游戏
- C、在线上课效果互动性不强，没有氛围
- D、线下课程的费用比线上课程高很多

90、只有研究结论能被实验验证的学科才可以称之为科学，经济学的研究结论能够被实验重复验证，因此，

经济学是一门科学。

下列选项中与上文推论存在的逻辑错误最为相似的是（ ）。

- A、世界上所有咖啡的爱好者都知道蓝山咖啡，因此分辨不出蓝山咖啡的人都算不上咖啡爱好者
- B、城市的景观是自身营商环境的最佳展示，因此，不够现代大气的地方，其商业也不会繁荣
- C、想要以会员价购买本店商品必须成为本店会员，因此，成为本店会员就能享受本店商品会员价
- D、在国际赛事中获奖的本校教师都能得到本校特别奖励，王老师没能在国际赛事中获奖，因此不会进入本校特别奖励名单

五、资料分析。根据题干，在下列四个选项中，选出一个最恰当的答案。

(一)

根据以下资料回答 91~95 题：

A 市是全国较早实现城乡一体化的城市，耕地面积较少。近年来，A 市大力推进农业产业化，建设“城市菜篮子”，实现农业快速发展。农业总产值由 2015 年的 12.92 亿元增加至 2019 年的 42.46 亿元。

2015-2019 年 A 市农业产值（单位：万元）

项目	2015 年	2016 年	2017 年	2018 年	2019 年
农业总产值	129156	159115	190942	188609	424606
其中：种植业	37842	32799	65741	123414	117928
林业	1307	1975	1952	2379	1750
牧业	26292	23422	16201	29013	25464
渔业	16352	93487	98749	214992	259541
农林牧渔服 务业	5363	6823	8299	18811	19923

近年来，A 市农作物播种面积不断增加。特别是通过推动规模化蔬菜种植，满足城市需求，实现其他农作物播种面积快速增长。其他作物播种面积达到农作物总播种面积的 78.8%。

## 2015-2019 年 A 市农作物播种面积（单位：亩）

项目	2015 年	2016 年	2017 年	2018 年	2019 年
农作物总播种 面积	73775	72358	86404	179010	189272
其中：粮食作物	144	152	597	34718	34813
经济作物	513	6702	2243	5169	5267
其他作物	73118	65504	83564	139123	149192

91、2015-2019 年，A 市农业总产值年均增长（ ）万元。

- A、54000
- B、64000
- C、74000
- D、84000

92、与 2015 年相比，2019 年 A 市各农业产业中产值增幅最大的是（ ）。

- A、种植业
- B、林业
- C、牧业
- D、渔业

93、2015-2019 年，A 市其他作物播种面积最大的一年比最少的一年多（ ）。

- A、86074
- B、83688
- C、76074
- D、73688

94、2015-2019 年，A 市牧业产值占农业总产值比重最大的年份是（ ）。

- A、2015
- B、2016
- C、2018

D、2019

95、根据材料，以下说法不正确的是（ ）。

- A、2016 年是 A 市经济作物播种面积增长最快的一年
- B、2017 年，A 市渔业产值占农业总产值的比重超过 50%
- C、2015 年-2019 年，A 市农作物总播种面积经历了先减少再增加的过程
- D、2015 年-2019 年，A 市粮食作物播种面积占农作物总播种面积的比例逐年提升

(二)

某单位 2018 年财务预算、决算及 2019 年财政预算汇总表（单位：万元）

支出项目	2018 年预算数	2018 决算数	2019 年预算数
一：一般公共服务（大项，下同）	4708	5204	6903
行政运行（细项，下同）	1639		1737
一般行政管理事务	56		66
信息事务	145		145
专项统计业务	1134		1082
统计管理	738		716
专项普查活动	60		2078
事业运行	936		1049
其他统计信息事务支出	0		30
二：教育支出	423	256	798
培训支出	423		798
三：社会保险和就业	565	1349	578
财政对其他社会基金的补助	2		11
归口管理的行政单位离退休	126		102
事业单位离退休	1		1
机关事业单位基本保险与缴费	315		331
机关事业单位职业年金缴费	121		133
四：医疗卫生	67	70	80
行政单位医疗	49		50
事业单位医疗	18		30
五：节能环保支出	20	99	99
其他污染减排支出	20		99
六：住房保障支出	292	941	471
住房公积金	139		311
购房补贴	153		160
本年支出合计	6074	7921	8928

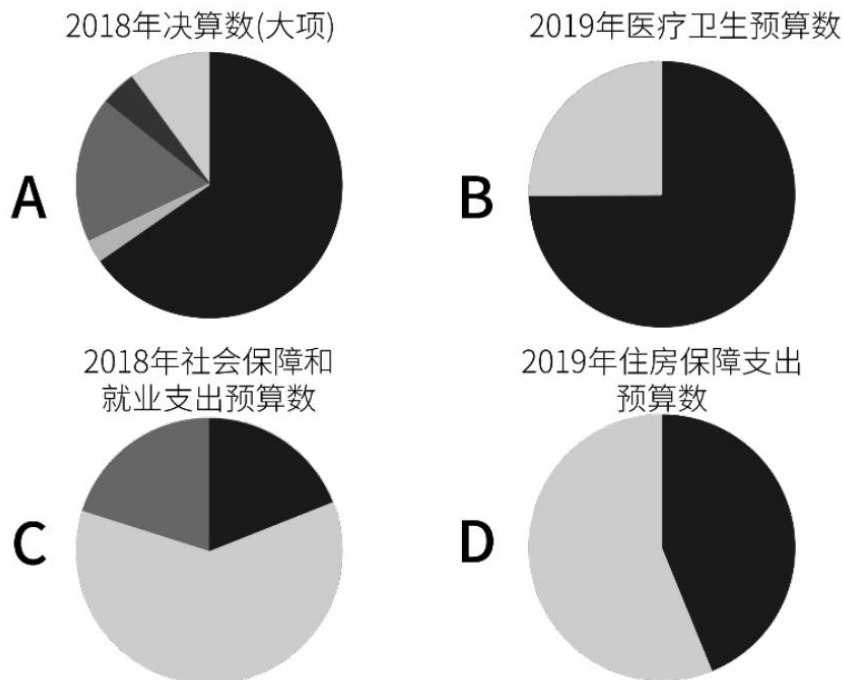
96、该单位以下支出项目中，与预算相比 2018 年决算增幅最大的是（ ）。

- A、一般公共服务
- B、社会保障和就业
- C、节能环保支出
- D、住房保障支出

97、该单位 2019 年预算支出中，一共有（ ）细项预算数较上年有所提高。

- A、15
- B、14
- C、13
- D、12

98、下列选项最可能准确反映该项目情况的是（ ）。



- A、A
- B、B
- C、C
- D、D

99、该单位六个大项中，2018 年决算数较预算数增加最多的大项，其 2019 年预算数同比增长（ ）。

- A、2.3%
- B、61.3%
- C、138.8%
- D、395%



100、以下说法错误的是（ ）。

- A、与 2018 年相比，2019 年预算总数的增量主要集中在一般公共服务项目
- B、与 2018 年相比，2019 年教育支出预算数较总数的比重有所提升
- C、2019 年预算项目中，只有社会保障和就业、住房保障支出两项的预算数低于 2018 年决算数
- D、2019 年住房保障支出预算数的增长主要出现在购房补贴中

## 参考答案

## 1、本题考查政治。

2019年10月31日中国共产党第十九届中央委员会第四次全体会议通过了《中共中央关于坚持和完善中国特色社会主义制度、推进国家治理体系和治理能力现代化若干重大问题的决定》。决定指出：“国家行政管理承担着按照党和国家决策部署推动经济社会发展、管理社会事务、服务人民群众的重大职责。必须坚持一切行政机关为人民服务、对人民负责、受人民监督，创新行政方式，提高行政效能，建设人民满意的服务型政府。”

故表述正确。

## 2、本题考查政治。

党的十九大报告指出：“实施乡村振兴战略。农业农村农民问题是关系国计民生的根本性问题，必须始终把解决好“三农”问题作为全党工作重中之重。要坚持农业农村优先发展，按照产业兴旺、生态宜居、乡风文明、治理有效、生活富裕的总要求，建立健全城乡融合发展体制机制和政策体系，加快推进农业农村现代化。”

故表述正确。

## 3、本题考查政治。

党的十九大报告指出：“实施健康中国战略。人民健康是民族昌盛和国家富强的重要标志。要完善国民健康政策，为人民群众提供全方位全周期健康服务。”本题将“人民健康”偷换为“健康服务”，与报告原文不符。

故表述错误。

## 4、本题考查政治。

2013年，习近平总书记在辽宁考察，深入产业工人居住社区时曾说过：“让老百姓过上好日子是我们一切工作的出发点和落脚点。”

故表述正确。

## 5、本题考查时政。

2018年2月28日，中国共产党第十九届中央委员会第三次全体会议通过了《中共中央关于深化党和国家机构改革的决定》（以下简称《决定》）。《决定》指出：“深化党和国家机构改革，必须全面贯彻党的十九大精神，坚持以马克思列宁主义、毛泽东思想、邓小平理论、“三个代表”重要思想、科学发展观、习近平新时代中国特色社会主义思想为指导，适应新时代中国特色社会主义发展要求，坚持稳中求进工作总基调，坚持正确改革方向，坚持以人民为中心，坚持全面依法治国，以加强党的全面领导为统领，以国家治理体系和治理能力现代化为导向，以推进党和国家机构职能优化协同高效为着力点，改革机构设置，优化职能配置，深化转职能、转方式、转作风，提高效率效能，为决胜全面建成小康社会、开启全面建设社会主义现代化国家新征程、实现中华民族伟大复兴的中国梦提供有力制度保障。”

故表述错误。

#### 6、本题考查政治。

党的十九大报告指出：“改革开放之后，我们党对我国社会主义现代化建设作出战略安排，提出‘三步走’战略目标。解决人民温饱问题、人民生活总体上达到小康水平这两个目标已提前实现。在这个基础上，我们党提出，到建党一百年时建成经济更加发展、民主更加健全、科教更加进步、文化更加繁荣、社会更加和谐、人民生活更加殷实的小康社会，然后再奋斗三十年，到新中国成立一百年时，基本实现现代化，把我国建成社会主义现代化国家。”

故表述正确。

#### 7、本题考查政治。

党的十九大报告指出：“脱贫攻坚战取得决定性进展，六千多万贫困人口稳定脱贫，贫困发生率从百分之十点二下降到百分之四以下。要动员全党全国全社会力量，坚持精准扶贫、精准脱贫，坚持中央统筹省负总责市县抓落实的工作机制，强化党政一把手负总责的责任制，坚持大扶贫格局，注重扶贫同扶志、扶智相结合，深入实施东西部扶贫协作，重点攻克深度贫困地区脱贫任务，确保到二〇二〇年我国现行标准下农村贫困人口实现脱贫，贫困县全部摘帽，解决区域性整体贫困，做到脱真贫、真脱贫。”

故表述错误。

#### 8、本题考查政治。

党的十九大报告指出：“经济体制改革必须以完善产权制度和要素市场化配置为重点，实现产权有效激励、要素自由流动、价格反应灵活、竞争公平有序、企业优胜劣汰。”

故表述正确。

#### 9、本题考查政治常识。

党的十九大报告指出：“我们要建设的现代化是人与自然和谐共生的现代化，既要创造更多物质财富和精神财富以满足人民日益增长的美好生活需要，也要提供更多优质生态产品以满足人民日益增长的优美生态环境需要。必须坚持节约优先、保护优先、自然恢复为主的方针，形成节约资源和保护环境的空间格局、产业结构、生产方式、生活方式，还自然以宁静、和谐、美丽。”

故表述错误。

#### 10、本题考查政治。

党的十九届四中全会指出：“增进人民福祉、促进人的全面发展是我们党立党为公、执政为民的本质要求。”

故表述正确。

#### 11、本题考查政治。

党的十八届三中全会首次提出推进国家治理体系和治理能力现代化这个重大命题，并把完善和发展中国特色社会主义制度、推进国家治理体系和治理能力现代化确定为全面深化改革的总目标。党的十八届五中全会强调，“十三五”时期要实现各方面制度更加成熟更加定型，国家治理体系和治理能力现代化取得重大进展，各

领域基础性制度体系基本形成。

故表述正确。

12、本题考查政治。2019年10月31日，中国共产党第十九届中央委员会第四次全体会议审议通过了《中共中央关于坚持和完善中国特色社会主义制度、推进国家治理体系和治理能力现代化若干重大问题的决定》（下称《决定》）。《决定》指出：加快完善社会主义市场经济体制。建设高标准市场体系，完善公平竞争制度，全面实施市场准入负面清单制度，改革生产许可制度，健全破产制度。公平竞争是建设高标准市场体系的核心，而商品的价格会围绕价值上下波动，并不是长期固定的。

故表述错误。

13、本题考查政治。

《中共中央国务院关于新时代加快完善社会主义市场经济体制的意见》指出：“社会主义市场经济体制是中国特色社会主义的重大理论和实践创新，是社会主义基本经济制度的重要组成部分。改革开放特别是党的十八大以来，我国坚持全面深化改革，充分发挥经济体制改革的牵引作用，不断完善社会主义市场经济体制，极大调动了亿万人民的积极性，极大促进了生产力发展，极大增强了党和国家的生机活力，创造了世所罕见的经济快速发展奇迹。”

故表述正确。

14、本题考查经济。

供求关系是指在商品经济条件下，商品供给和需求之间的相互联系、相互制约的关系，它是生产和消费之间的关系在市场上的反映。“物以稀为贵”意为物品稀少，供应量少，因而价格昂贵，因此反映了供求对价格的影响。

故表述错误。

15、本题考查政治。

2019年8月中旬，中共中央、国务院印发了《关于支持深圳建设中国特色社会主义先行示范区的意见》。《意见》指出，全面推进城市精神文明建设。进一步弘扬开放多元、兼容并蓄的城市文化和敢闯敢试、敢为人先、埋头苦干的特区精神，大力弘扬粤港澳大湾区人文精神，把社会主义核心价值观融入社会发展各方面，加快建设区域文化中心城市和彰显国家文化软实力的现代文明之城。

故表述正确。

16、本题考查法律常识。

根据我国《宪法》第一百条第二款规定：“设区的市的人民代表大会和它们的常务委员会，在不同宪法、法律、行政法规和本省、自治区的地方性法规相抵触的前提下，可以依照法律规定制定地方性法规，报本省、自治区人民代表大会常务委员会批准后施行。”广州市是设区的市，广州市人民代表大会及其常务委员会有权制定地方性法规，不是广州市人民政府，广州市人民政府有权制定地方政府规章。

故表述错误。

17、本题考查法律常识。

根据《中华人民共和国民法典》第二百七十四条规定：“建筑区划内的道路，属于业主共有，但是属于城镇公共道路的除外。建筑区划内的绿地，属于业主共有，但是属于城镇公共绿地或者明示属于个人的除外。建筑区划内的其他公共场所、公用设施和物业服务用房，属于业主共有。”第二百八十二条规定：“建设单位、物业服务企业或者其他管理人等利用业主的共有部分产生的收入，在扣除合理成本之后，属于业主共有。”小区电梯是公用设施，属于业主共有。小区电梯广告收益是利用业主的共有部分产生的收入，物业服务企业在扣除合理成本之后，属于业主共有。

故表述错误。

18、本题考查法律常识。

根据《中华人民共和国国家安全法》第十一条第二款规定：“中国的主权和领土完整不容侵犯和分割。维护国家主权、统一和领土完整是包括港澳同胞和台湾同胞在内的全中国人民的共同义务。”

故表述正确。

19、本题考查法律常识。

根据《中华人民共和国国旗法》第十三条第二款规定：“全日制中学小学，除假期外，每周举行一次升旗仪式。”

故表述错误。

20、本题考查法律常识。

《民法总则》第二十六条第二款规定：“成年子女对父母负有赡养、扶助和保护的义务。”因此，是成年子女的义务，不是所有子女的义务。

故表述错误。

21、本题考查政治。

A项错误，量变是质变的必要准备，质变是量变的必然结果。“蓄电池理论”虽然强调“不间断的、持续的充电”，但并未体现出质变。

B项错误，联系具有普遍性，是指何事物都不可能孤立存在，都同其他事物处于一定的相互联系之中。“蓄电池理论”与联系的普遍性无关。

C项错误，矛盾具有特殊性，是指具体事物的矛盾及每一个矛盾的各个方面都有其特点，各个具体事物的矛盾及每一个矛盾的各方面在发展的不同阶段也各有特点。“蓄电池理论”与矛盾的特殊性无关。

D项正确，新事物是指符合事物发展的客观规律和前进趋势、具有强大生命力和远大前途的事物。新事物否定了旧事物中消极的、过时的、腐朽的东西，同时吸取、继承了旧事物中积极的、仍在适应新的历史条件的东西，并增添了一些为旧事物不能容纳的新东西，因而它在内容上比旧事物丰富、在形态上比旧事物高级、在

结构上比旧事物合理，在功能上比旧事物强大，具有旧事物所不可比拟的优越性和强大的生命力。因此新事物必然代替旧事物。“蓄电池理论”强调人的一生只充一次电的“干电池时代”已经过去，只有成为一块高效“蓄电池”，不间断地持续充电，才能不间断地释放能量，即只有不断加强学习，才能不断超越自我、与时俱进，成为新事物，才能不被社会淘汰，在新时代有所作为。

故正确答案为D。

22、本题考查政治。

2020年3月，中共中央办公厅、国务院办公厅印发了《关于构建现代环境治理体系的指导意见》（以下简称《指导意见》）。

①正确，《指导意见》指出：“省级党委和政府对本地区环境治理负总体责任，贯彻执行党中央、国务院各项决策部署，组织落实目标任务、政策措施，加大资金投入。市县党委和政府承担具体责任，统筹做好监管执法、市场规范、资金安排、宣传教育等工作。”

②正确，《指导意见》指出：“健全企业信用建设。完善企业环保信用评价制度，依据评价结果实施分级分类监管。”

③正确，《指导意见》指出：“鼓励企业参与绿色“一带一路”建设，带动先进的环保技术、装备、产能走出去。”

④正确，《指导意见》指出：“发挥各类社会团体作用。工会、共青团、妇联等群团组织要积极动员广大职工、青年、妇女参与环境治理。”

故正确答案为D。

23、本题考查政治。

2020年3月30日，中共中央、国务院印发《关于构建更加完善的要素市场化配置体制机制的意见》（以下简称《意见》）提出，要引导劳动力要素合理畅通有序流动。

A项正确，《意见》指出：“引导劳动力要素合理畅通有序流动。深化户籍制度改革。推动超大、特大城市调整完善积分落户政策，探索推动在长三角、珠三角等城市群率先实现户籍准入年限同城化累计互认。放开放宽除个别超大城市外的城市落户限制，试行以经常居住地登记户口制度。”

B项错误，《意见》提出：“加快发展技术要素市场。培育发展技术转移机构和技术经理人。加强国家技术转移区域中心建设。支持科技企业与高校、科研机构合作建立技术研发中心、产业研究院、中试基地等新型研发机构。积极推进科研院所分类改革，加快推进应用技术类科研院所市场化、企业化发展。支持高校、科研机构和科技企业设立技术转移部门。建立国家技术转移人才培养体系，提高技术转移专业服务能力。”

C项错误，《意见》提出：“加快要素价格市场化改革。健全生产要素由市场评价贡献、按贡献决定报酬的机制。着重保护劳动所得，增加劳动者特别是一线劳动者劳动报酬，提高劳动报酬在初次分配中的比重。全面贯彻落实以增加知识价值为导向的收入分配政策，充分尊重科研、技术、管理人才，充分体现技术、知识、

管理、数据等要素的价值。”

D项错误,《意见》提出:“健全要素市场运行机制。提升要素交易监管水平。打破地方保护,加强反垄断和反不正当竞争执法,规范交易行为,健全投诉举报查处机制,防止发生损害国家安全及公共利益的行为。加强信用体系建设,完善失信行为认定、失信联合惩戒、信用修复等机制。健全交易风险防范处置机制。”

故正确答案为A。

24、本题考查政治。

党的十九届四中全会提出,坚持和完善人民当家作主制度体系,发展社会主义民主政治。必须坚持人民主体地位,坚定不移走中国特色社会主义政治发展道路,确保人民依法通过各种途径和形式管理国家事务,管理经济文化事业,管理社会事务。

故正确答案为B。

25、本题考查政治。

2014年4月15日习近平主持召开中央国家安全委员会第一次会议并发表重要讲话时指出,当前我国国家安全内涵和外延比历史上任何时候都要丰富,时空领域比历史上任何时候都要宽广,内外因素比历史上任何时候都要复杂,必须坚持总体国家安全观,以人民安全为宗旨,以政治安全为根本,以经济安全为基础,以军事、文化、社会安全为保障,以促进国际安全为依托,走出一条中国特色国家安全道路。贯彻落实总体国家安全观,必须既重视外部安全,又重视内部安全,对内求发展、求变革、求稳定、建设平安中国,对外求和平、求合作、求共赢、建设和谐世界;既重视国土安全,又重视国民安全,坚持以民为本、以人为本,坚持国家安全一切为了人民、一切依靠人民,真正夯实国家安全的群众基础;既重视传统安全,又重视非传统安全,构建集政治安全、国土安全、军事安全、经济安全、文化安全、社会安全、科技安全、信息安全、生态安全、资源安全、核安全等于一体的国家安全体系;既重视发展问题,又重视安全问题,发展是安全的基础,安全是发展的条件,富国才能强兵,强兵才能卫国;既重视自身安全,又重视共同安全,打造命运共同体,推动各方朝着互利互惠、共同安全的目标相向而行。

故正确答案为D。

26、本题考查政治。

2020年4月20日,国家发改委举行4月份新闻发布会介绍宏观经济运行情况并回应热点问题时指出:“新型基础设施是以新发展理念为引领,以技术创新为驱动,以信息网络为基础,面向高质量发展需要,提供数字转型、智能升级、融合创新等服务的基础设施体系。主要包括3个方面内容:一是信息基础设施。主要是指基于新一代信息技术演化生成的基础设施,比如,以5G、物联网、工业互联网、卫星互联网为代表的通信网络基础设施,以人工智能、云计算、区块链等为代表的新技术基础设施,以数据中心、智能计算中心为代表的算力基础设施等。二是融合基础设施。主要是指深度应用互联网、大数据、人工智能等技术,支撑传统基础设施转型升级,进而形成的融合基础设施,比如,智能交通基础设施、智慧能源基础设施等。三是创新基础设施。主

要是指支撑科学研究、技术开发、产品研制的具有公益属性的基础设施，比如，重大科技基础设施、科教基础设施、产业技术创新基础设施等。”

故正确答案为 A。

27、本题考查政治。

2019年1月21日，习近平总书记在省部级主要领导干部坚持底线思维着力防范化解重大风险专题研讨班开班式上发表重要讲话，对各领域防范化解重大风险作出具体指导。针对科技领域，他指出：（一）要加强体系建设和能力建设，完善国家创新体系，解决资源配置重复、科研力量分散、创新主体功能定位不清晰等突出问题，提高创新体系整体效能。（二）要加快补短板，建立自主创新的制度机制优势。（三）要加强重大创新领域战略研判和前瞻部署，抓紧布局国家实验室，重组国家重点实验室体系，建设重大创新基地和创新平台，完善产学研协同创新机制。（四）要强化事关国家安全和经济社会发展全局的重大科技任务的统筹组织，强化国家战略科技力量建设。（五）要加快科技安全预警监测体系建设，围绕人工智能、基因编辑、医疗诊断、自动驾驶、无人机、服务机器人等领域，加快推进相关立法工作。因此 B、C、D 项正确。

本题为选非题，故正确答案为 A。

28、本题考查法律常识。

《民法典》第九条规定：“民事主体从事民事活动，应当有利于节约资源、保护生态环境。”2020年5月28日，十三届全国人民代表大会三次会议审议通过了新中国历史上首部《民法典》。《民法典》确立了平等原则、自愿原则、公平原则、诚信原则、守法与公序良俗原则和绿色原则等基本原则。（1）平等原则：民事主体在民事活动中的法律地位一律平等。（2）自愿原则：民事主体从事民事活动，应当遵循自愿原则，按照自己的意思设立、变更、终止民事法律关系。（3）公平原则：民事主体从事民事活动，应当遵循公平原则，合理确定各方的权利和义务。（4）诚信原则：民事主体从事民事活动，应当遵循诚信原则，秉持诚实，恪守承诺。（5）守法与公序良俗原则：民事主体从事民事活动，不得违反法律，不得违背公序良俗。（6）绿色原则：民事主体从事民事活动，应当有利于节约资源、保护生态环境。

故正确答案为 B。

29、本题考查地理国情。

A 项正确，港珠澳大湾区位于北回归线附近，这里的气候类型属于亚热带季风气候。

B 项正确，客家文化主要流行于广东的梅州、河源、惠州、韶关，江西的赣州，福建的龙岩，广西的贺州等地及国内外其他客家人聚居地。范围主要包括赣江、汀江、梅江、东江和北江流域的赣南、闽西、粤东、粤北和珠江口东岸的客家大本营，还有遍布于湘滇陕黔浙琼等省的散点客家居住地，因此粤港澳大湾区以客家文化作为核心文化。

C 项错误，《粤港澳大湾区发展规划纲要》指出：优化提升中心城市。以香港、澳门、广州、深圳四大中心城市作为区域发展的核心引擎。



D项正确,《粤港澳大湾区发展规划纲要》指出:打造粤港澳大湾区,建设世界级城市群,有利于丰富“一国两制”实践内涵,进一步密切内地与港澳交流合作,为港澳经济社会发展以及港澳同胞到内地发展提供更多机会,保持港澳长期繁荣稳定;有利于贯彻落实新发展理念,深入推进供给侧结构性改革,加快培育发展新动能、实现创新驱动发展,为我国经济创新力和竞争力不断增强提供支撑;有利于进一步深化改革、扩大开放,建立与国际接轨的开放型经济新体制,建设高水平参与国际经济合作新平台;有利于推进“一带一路”建设,通过区域双向开放,构筑丝绸之路经济带和21世纪海上丝绸之路对接融汇的重要支撑区,因此,粤港澳大湾区在国家发展大局中具有重要战略地位。

本题为选非题,故正确答案为C。

30、本题考查科技常识。

A项正确,应对台风应关好门窗并在窗户玻璃上用胶布贴成“米”字图形,以防窗户玻璃破碎。

B项正确,台风来临时应避免在河边和桥上行走,行人在路上、桥上、水边,防止被吹倒或吹落水中,造成摔死摔伤或溺水。

C项正确,当台风黄色预警信号、台风橙色预警信号、台风红色预警信号和暴雨红色预警信号发布时,幼儿园、托儿所和中小学应当停课。

D项错误,遇到台风来袭时正好行车路上的情况,则应立即将车开到地下停车场或隐蔽处,开阔的地方会有被台风卷走的危险。

本题为选非题,故正确答案为D。

31、本题考查政治。

A项正确,坚持稳中求进工作总基调,统筹推进“五位一体”总体布局,协调推进“四个全面”战略布局,提高党把方向、谋大局、定政策、促改革的能力和定力,确保党始终总揽全局、协调各方。新冠肺炎疫情发生以来,党中央高度重视,习近平总书记亲自部署、亲自指挥,体现了坚持党对一切工作的领导。

B项正确,必须坚持人民主体地位,坚持立党为公、执政为民,践行全心全意为人民服务的根本宗旨,把党的群众路线贯彻到治国理政全部活动之中,把人民对美好生活的向往作为奋斗目标,依靠人民创造历史伟业。始终把人民群众生命安全和身体健康放在第一位,体现了坚持以人民为中心。

C项正确,必须把党的领导贯彻落实到依法治国全过程和各方面,坚定不移走中国特色社会主义法治道路,完善以宪法为核心的中国特色社会主义法律体系,建设中国特色社会主义法治体系,建设社会主义法治国家。从立法、执法、司法各环节发力,全面提高依法防控,依法治理能力,体现了坚持全面依法治国。

D项正确,坚持推动构建人类命运共同体,是习近平新时代中国特色社会主义思想的重要组成部分,是新时代中国外交的一面旗帜。中国是人类命运共同体理念的首次提出者,也是构建人类命运共同体的积极实践者和推动者。当前,新冠病毒肺炎疫情在全球蔓延,中国的战“疫”行动展现了负责任大国的胸怀和大国担当,是中国践行人类命运共同体理念的生动体现。

故正确答案为 ABCD。

32、本题考查政治。

A 项正确，中国财政学会绩效管理专委会副主任委员张依群对《证券日报》记者表示，我国从 2016 年开始连续实施大规模减税降费政策，减税降费范围、项目、规模都呈现大规模增长，发挥了积极财政逆周期调节作用，极大地增强了我国经济的抗风险能力，全力保障了我国经济增速在合理区间运行。

B 项正确，巨丰投顾投资顾问总监郭一鸣对《证券日报》记者表示，为助推供给侧结构性改革、激发市场活力，减税降费力度逐年加大，有助于降低企业负担，解决企业困难。同时，释放减税降费红利，让百姓减负，享实惠，还能促进消费。

C 项正确，减税降费的政策有利于进一步减轻企业的负担，企业可以把资金更好地用于扩大生产，提升产品质量，所以减税降费是用政府财政收入的减法来换取企业效益的加法和市场活力的乘法。

D 项正确，减税降费的政策包含降低增值税税率、提高小规模纳税人起征点、个人所得税改革等举措，通过提高起征点，能够增加百姓的可支配收入，提升生活质感，促进消费。

故正确答案为 ABCD。

33、本题考查政治。

A 项正确，在农村培育和践行社会主义核心价值观能够引导他们树立起正确的世界观、人生观、价值观和道德观，教育农民讲文明、讲礼貌、讲信誉，助人为乐、见义勇为，助力乡村德治建设。

B 项正确，村规民约是根据相关法律、法规、政策，结合本村实际，制定的涉及村风民俗、社会公德、社会管理、精神文明建设等方面约束规范村民行为的一种规章制度，起着维护乡村文化遗产和秩序的“习惯法”的作用，能够起到加强乡村德治建设的作用。

C 项正确，党的十九届四中全会强调：完善公共法律服务体系，夯实依法治国群众基础。加强农村法治宣传教育有助于法治观念深入人心，助力农村公共法律服务体系的构建和乡村德治的建设。

D 项正确，中华优秀传统文化是乡村德治的重要资源，虽然新的社会变迁导致乡村社会结构与道德规范发生改变，但是大量的中华优秀传统文化仍然存在于农村，形成了村民内化的行为规范。因此，我们应以中华优秀传统文化为基础，深入挖掘优秀传统农耕文化蕴含的思想观念、人文精神、道德规范，大力推进农村文化建设，拓宽德治发挥作用的空間。

故正确答案为 ABCD。

34、本题考查政治。

2020 年 1 月 2 日，新华网授权发布《中共中央 国务院关于抓好“三农”领域重点工作确保如期实现全面小康的意见》（以下简称《意见》）。意见提出，对标全面建成小康社会加快补上农村基础设施和公共服务短板。

A 项正确，《意见》指出：“提高农村教育质量。· · · · ·重视农村学前教育，多渠道增加普惠性学

前教育资源供给。”

B项正确,《意见》指出:“提高农村供水保障水平。全面完成农村饮水安全巩固提升工程任务。统筹布局农村饮水基础设施建设,在人口相对集中的地区推进规模化供水工程建设。有条件的地区将城市管网向农村延伸,推进城乡供水一体化。”

C项正确,《意见》指出:“加大农村公共基础设施建设力度。推动‘四好农村路’示范创建提质扩面,启动省域、市域范围内示范创建。在完成具备条件的建制村通硬化路和通客车任务基础上,有序推进较大人口规模自然村(组)等通硬化路建设。支持村内道路建设和改造。”

D项正确,《意见》指出:“改善乡村公共文化服务。推动基本公共文化服务向乡村延伸,扩大乡村文化惠民工程覆盖面。鼓励城市文艺团体和文艺工作者定期送文化下乡。实施乡村文化人才培养工程,支持乡土文艺团组发展,扶持农村非遗传承人、民间艺人收徒传艺,发展优秀戏曲曲艺、少数民族文化、民间文化。保护好历史文化名镇(村)、传统村落、民族村寨、传统建筑、农业文化遗产、古树名木等,以‘庆丰收、迎小康’为主题办好中国农民丰收节。”

故正确答案为 ABCD。

35、本题考查政治。

A项正确,深化科技体制改革是全面深化改革的重要内容,是实施创新驱动发展战略、建设创新型国家的根本要求。

B项错误,培育经济高速增长动力源属于经济方面的措施。

C、D项正确,党的十九届四中全会指出:“完善科技创新体制机制。弘扬科学精神和工匠精神,加快建设创新型国家,强化国家战略科技力量,健全国家实验室体系,构建社会主义市场经济条件下关键核心技术攻关新型举国体制。加大基础研究投入,健全鼓励支持基础研究、原始创新的体制机制。”

故正确答案为 ACD。

36、本题考查政治。

2020年9月22日,中共中央总书记、国家主席、中央军委主席习近平在京主持召开教育文化卫生体育领域专家代表座谈会并发表重要讲话。习近平指出,教育是国之大计、党之大计。“十四五”时期,我们要从党和国家事业发展全局的高度,全面贯彻党的教育方针,坚持优先发展教育事业,坚守为党育人、为国育才,努力办好人民满意的教育,在加快推进教育现代化的新征程中培养担当民族复兴大任的时代新人。要坚持社会主义办学方向,把立德树人作为教育的根本任务,发挥教育在培育和践行社会主义核心价值观中的重要作用,深化学校思想政治理论课改革创新,加强和改进学校体育美育,广泛开展劳动教育,发展素质教育,推进教育公平,促进学生德智体美劳全面发展,培养学生爱国情怀、社会责任感、创新精神、实践能力。

故正确答案为 ABCD。

37、本题考查法律常识。

根据《民法典》第一百七十九条第一款的规定：“承担民事责任的方式主要有：（一）停止侵害；（二）排除妨碍；（三）消除危险；（四）返还财产；（五）恢复原状；（六）修理、重作、更换；（七）继续履行；（八）赔偿损失；（九）支付违约金；（十）消除影响、恢复名誉；（十一）赔礼道歉。”

A 项错误，撤销资格不是民事责任的承担方式。

B、C、D 三项正确，都属于上述法条规定的民事责任的承担方式。

故正确答案为 BCD。

38、本题考查法律常识。

根据《突发事件应对法》第三条规定：“本法所称突发事件，是指突然发生，造成或者可能造成严重社会危害，需要采取应急处置措施予以应对的自然灾害、事故灾难、公共卫生事件和社会安全事件。”

A 项错误，自然灾害是指给人类生存带来危害或损害人类生活环境的自然现象，包括干旱、洪涝、地震、海啸等。

B、D 项正确，事故灾难是指由于事故的行为人出于故意或过失的行为，违反治安行政法规和有关安全管理的规章制度，造成物质损失或人员伤亡，并在一定程度上对社会或公共安全造成危害的事故。其主要包括工矿商贸等企业的各类安全事故、交通运输事故、公安设施和设备事故、环境污染和生态破坏事故等。煤矿透水事故、槽罐车爆炸事故属于事故灾难。

C 项错误，公共卫生事件是指突然发生，造成或者可能造成社会公众健康严重损害的重大传染病疫情、群体性不明原因疾病、重大食物和职业中毒以及其他严重影响公众健康的事件。新冠肺炎疫情属于公共卫生事件。

故正确答案为 BD。

39、本题考查法律常识。

根据《环境保护法》第二十九条规定：“国家在重点生态功能区、生态环境敏感区和脆弱区等区域划定生态保护红线，实行严格保护。各级人民政府对具有代表性的各种类型的自然生态系统区域，珍稀、濒危的野生动植物自然分布区域，重要的水源涵养区域，具有重大科学文化价值的地质构造、著名溶洞和化石分布区、冰川、火山、温泉等自然遗迹，以及人文遗迹、古树名木，应当采取措施予以保护，严禁破坏。”因此，A、B、C、D 项均符合题意。

故正确答案为 ABCD。

40、本题考查地理国情。

A 项正确，洞庭湖位于湖南省、长江中游以南，是中国第二大淡水湖和长江流域重要的调蓄湖泊，具有强大的蓄洪能力。

B 项错误，万绿湖又名新丰江水库，位于广东省河源市东源县境内，是华南最大的人工湖和最大的生态旅游名胜，因四季皆绿，处处皆绿而得名。

C 项正确，鄱阳湖位于江西省北部、长江中下游南岸，是中国第一大淡水湖，也是中国第二大湖。

D项错误，青海湖位于青海省西北部的青海湖盆地内，是中国最大的内陆湖泊，也是中国最大的咸水湖。

故正确答案为AC。

41、文段开篇提出“发展与问题总是相伴而生”这一观点，之后围绕这一观点举例论述；接下来通过“而是要”去解决问题，最后通过“归根结底”对解决问题的方法做出总结，因此文段重在说明要“以问题为导向”，对应A项。

B项，“发展过程就是解决问题的过程”，文段重点强调解决问题，非重点，排除；

C项，“发展的不同阶段面对的问题也不同”属于举例部分，非重点，排除；

D项，“面对问题的态度”非重点，文段重点强调解决问题的做法，且“决定”表述过于绝对，排除。

故正确答案为A。

【文段出处】《有的放矢，中国必将推动制度建设现代化进程》

42、横线出现在文段中间，需要结合前后文内容进行分析。前文说“借鉴好经验是一个重要方法”，肯定了“借鉴”的好处，紧接着出现“但”表转折，转折前后语义相反，可知横线句子要体现出“借鉴存在问题”的意思，后文指出“照抄照搬别国经验从来都是不会取得成功的”，因此横线上的内容需体现“照抄照搬”及“出现问题”两个方面，A项“画虎不成反类犬”比喻模仿的效果不好，弄得不伦不类，强调了机械效仿及效仿结果不好两个层面，符合文意，当选。

B项，“前事不忘，后事之师”提醒人们记住过去的教训，以作后来的借鉴，强调“过去的教训”，未体现“照抄照搬”之意，排除；

C项，“依葫芦画瓢”指照着真葫芦的样子画葫芦瓢，比喻刻板地照着做，仅强调刻板模仿，无法体现模仿后的结果不好，排除；

D项，“橘生淮南则为橘，生于淮北则为枳”比喻环境变了，事物的性质也变了，强调环境对事物的影响，未体现文中“照抄照搬”之意，排除。

故正确答案为A。

【文段出处】《有的放矢：合理借鉴人类文明一切优秀成果》

43、文段开篇引出作者的观点，即“领导留言板为老百姓反映诉求提供渠道的同时也为领导干部体察民意打开了窗口”，接着通过“百姓反映问题有人回应，建言献策有人采纳”和“领导干部仆下身子与民众对话，超越了网友间的普通互动”等内容对以上观点进行解释论证，故文段为总分结构，主要说明的是领导留言板产生的作用和意义，对应B项。

A项，“领导留言板的内容”非文段重点，文段主要说明的是“留言板的意义”，排除；

C、D两项，“领导留言板的形式”和“领导留言板的背景”文段并未提及，无中生有，均排除。

故正确答案为B。

【文段出处】《留言板越来越火 “连心桥”越走越宽》

44、文段开篇提出问题，即“一些市场主体正常经营遇到较大困难”，接着通过“必须”引导对策，即“采取有效措施”。后文通过“首先”、“其次”、“再次”三个层面详细说明具体应该怎么办。因此整个文段是针对“市场主体”目前出现的问题给出具体的解决方案，对应C项。

A项，文段说的是对“市场主体”的影响，选项说的是“经济”，范围扩大。其次，选项属于问题的表述，文段重点在说具体的解决对策，排除；

B项，文段的措施主要针对的是“市场主体”而非“疫情防控”，排除；

D项，文段是针对受疫情影响的市场主体提出解决问题的具体对策，“意义”无中生有，排除。

故正确答案为C。

【文段出处】《激发市场主体活力》

45、文段开篇先分别阐述了“个人”和“企业”两方面主体对于个人信息安全问题存在的分歧，接下来通过转折词“事实上”进行转折，强调“国家”在产业发展层面对保护个人信息的基础性作用，具体对策是要凝聚各方力量，综合考量前文提到不同主体层面的诉求，“才能”加强个人信息保护，推动产业健康发展。故对本段文字理解最为准确的是，基于“国家”基础性战略高度去综合考量个人信息保护的多元化诉求，对应C项。

A项，文段并未阐述“个人信息面临着天然的泄露风险”，故表述无中生有，排除；

B项，“绝对尊重个人意愿”表述过于绝对，文段强调基于“国家”基础性战略高度去综合考量个人信息保护的多元化诉求，才能促进相关产业健康发展，故表述错误，排除；

D项，“不同主体”对应段尾的“社会、产业、个人等不同层面的诉求”，但该项只是陈述有“不同诉求”，而文段强调“国家”治理层面去“综合考量”这些诉求，故表述非重点，排除。

故正确答案为C。

【文段出处】《数字时代如何保护个人信息》

46、文段为分总结构，开篇介绍了野味贸易带来的危害，指出任何一个物种对于自然界的生态平衡都十分重要，随后通过“从而”引导结论，即“野味贸易给人类赖以生存的自然环境带来潜在的生态危机”，C项为文段中心的同义替换，当选。

A项，“全面禁止野味贸易”文段未提及，无中生有，排除；

B项，“保护野生动物”文段未提及，无中生有，且文段重点在于强调“自然界的生态平衡”，排除；

D项，“每一个物种都是生态系统的重要一环”为解释说明中的内容，非文段重点，排除。

故正确答案为C。

47、文段开篇提出观点“晚清之后广府人在政治、经济文化中扮演重要角色”，紧接着通过“梁启超等”“港商港星”举例论证前文观点，为解释说明内容，故文段为总分结构，重点在首句，对应D项。

A项，“广府名人”对应后文例子部分，属于解释说明，非文段重点，排除；

B项，“广府文化在世界传播”文段未提及，属无中生有，排除；

C项，文段围绕“广府人”展开论述，“广府文化”偏离文段核心话题，排除。

故正确答案为D。

【文段出处】《广府人的精神原乡：珠玑古巷》

48、文段开篇通过“有人认为”引出别人的观点，即传统媒体将衰老至死，紧接着通过转折词“但”强调并非如此，传统媒体在危机中起到了重要作用。文段最后介绍大众已经意识到传统媒体的重要性，并通过对策标志词“应该”引出对策，强调大众应该更多的去关注和支持传统新闻业，对应D项。

A项，对应文段首句别人的观点，转折之前非重点，排除；

B项，“社交媒体”偏离文段核心话题，排除；

C项，“专业新闻素养”偏离文段核心话题，且文段强调的重点为“传统媒体”，“媒体”范围扩大，排除。

故正确答案为D。

【文段出处】《危机中传统媒体“破圈”，为什么假新闻还是满天飞？》

49、对比选项，观察首句，①②③⑤无明显非首句特征，不好排除，故而寻找其他线索。④中出现指代词“此”，论述此事的后续结果为“灾害多发之地”变为“天府之国”，可知前文应论述了针对灾害治理而采取了相应措施。对比选项，只有⑤论述了李冰建都江堰水利工程的这一具体措施，故⑤④捆绑，排除A、B两项。对比分析C、D两项，⑤④意在举例论证文段观点，②以“事实证明”引导结论，强调远大抱负及坚韧意志的重要性，③仅通过名言引出话题，因此文段应是先引出话题，强调远大志向的重要性，再举都江堰的事例进行论证，最后总结前文的逻辑顺序，确定顺序，选择C项。

故正确答案为C。

【文段出处】《徐徐下手，久久见工》

50、观察选项，四个选项首句均为③，无法排除，故而寻找其他线索；文段第②句出现并列关联词“同时”，指出老屋保留了农业文明印记，可观察选项寻找意思相近的句子，A、D项④②捆绑，B、C项⑤②捆绑。第⑤句强调了古屋保留了乡愁和记忆，内容一致，故确定⑤②捆绑，排除A、D两项；再观察对比B、C两项，重点需要确定④的位置，第④句“所以”表总结，强调了保护老屋是保护文化的“神”与“魂”，是对前文内容总的概括，应该在②和⑤之后，排除C项。

故正确答案为B。

【文段出处】《守住老屋 留住乡愁》

51、观察数列，无明显特征，且数字间差距较小，优先考虑做差，得出该数列为公差 $d=3$ 的等差数列，则下一项为 $13+3=16$ 。

故正确答案为B。

52、观察数列，无明显特征，且数字间差距较小，优先考虑做差，得出该数列为公差 $d = -4$ 的等差数列，则下一项为 $2 + (-4) = -2$ 。

故正确答案为 A。

53、观察数列，题干数列存在明显倍数关系，优先考虑做商，得出该数列为公比 $q = 2$ 的等比数列，则下一项为 $24 \times 2 = 48$ 。

故正确答案为 D。

54、观察数列，题干数列存在明显倍数关系，优先考虑做商，得出该数列为公比 $q = \frac{1}{2}$ 的等比数列，则下一项为 $24 \times \frac{1}{2} = 12$ 。

故正确答案为 B。

55、观察数列，无明显特征，且数字间差距较小，优先考虑做差。 $5 - 3 = 2$ ， $8 - 5 = 3$ ， $12 - 8 = 4$ ，得到一个等差数列 2、3、4，且公差 $d = 1$ ，则新数列的下一项为 $4 + 1 = 5$ ，因此原数列下一项为 $12 + 5 = 17$ 。

故正确答案为 A。

56、观察数列前后项存在明显倍数关系，考虑做商。分别用后一项除以前一项，得到新数列：1，2，3，4，新数列是公差为 1 的等差数列，故新数列的下一项为 $4 + 1 = 5$ ，则原数列所求为 $24 \times 5 = 120$ 。

故正确答案为 C。

57、观察数列后项减前一项所得数列是一个等比数列，做差得数列：1，2，4，8。新数列是一个公比是 2 的等比数列，所以下一项为 $8 \times 2 = 16$ ，则原数列为 $17 + 16 = 33$ 。

故正确答案为 B。

58、观察数列可得，后一项等于前两项的和，即 $2.0 + 0.2 = 2.2$ ； $0.2 + 2.2 = 2.4$ ；则 $2.2 + 2.4 = 4.6$ 。

故正确答案为 C。

59、观察数列可得： $2 = 1^3 + 1$ ； $9 = 2^3 + 1$ ； $28 = 3^3 + 1$ ； $65 = 4^3 + 1$ ，因此所求项为 $5^3 + 1 = 126$ 。

故正确答案为 D。

60、观察数列可知，本题数列是公差为 12 的等差数列。即 $21 + 12 = 33$ ； $33 + 12 = 45$ ； $45 + 12 = 57$ ，则所求项为 $57 + 12 = 69$ 。

故正确答案为 D。

61、分析题意可知，这批签字笔的总数 = 工作人员数  $\times$  每人分到的支数 + 剩余的支数 =  $7 \times 2 + 4 = 18$ 支。



故正确答案为 B。

62、根据题目条件，沿圆形草坪边缘等间隔正好插 20 面彩旗，易知此题为植树问题中的环形植树问题。根据公式：总长 = 间隔 × 棵数 =  $3 \times 20 = 60$  米。

故正确答案为 D。

63、本题考查排列组合问题。

根据题意，一份午餐套餐要分别从 2 种主食中选 1 种、从 2 种肉菜中选 1 种、从 3 种青菜中选 2 种，分步进行乘法，共有  $C_2^1 C_2^1 C_3^2 = 2 \times 2 \times \frac{3 \times 2}{2} = 2 \times 2 \times 3 = 12$  种可能的搭配。

故正确答案为 C。

64、方法一：设小李答对  $x$  道题、答错  $y$  道题，小王比小李多答错  $m$  道题，则小王答对  $x + 5$  道、答错  $y + m$  道；根据“小王比小李多答对了 5 题，但总分还比小李少了 5 分”，可列式： $2 \times (x + 5) - 1 \times (y + m) = 2x - y - 5$ ，解得  $m = 15$ 。

方法二：根据“小王比小李多答对了 5 题”可知，得分情况是小王比小李多得  $5 \times 2 = 10$  分；根据“总分还比小李少了 5 分”可知，扣分情况是小王比小李多扣  $10 + 5 = 15$  分。因此，小王比小李多答错  $\frac{15}{1} = 15$  道题。

故正确答案为 C。

65、根据题意，长绳要对折和折成三段，故设长绳长度为  $6x$  米，短绳长度为  $y$  米，由长绳对折后比短绳长 1.2 米可列式： $\frac{6x}{2} - y = 1.2$  ①，由折成三段后则比短绳短了 0.3 米可列式： $\frac{6x}{3} - y = -0.3$  ②，解得  $y = 3.3$ 。

故正确答案为 A。

66、设每箱咖啡的价格为  $x$  元，每箱牛奶的价格为  $y$  元。根据条件“购买 5 箱咖啡和 3 箱牛奶共计需要花费 450 元”，可得  $5x + 3y = 450$  ①，根据条件“购买 3 箱咖啡和 2 箱牛奶共计花费 280 元”，可得  $3x + 2y = 280$  ②，联立①②，解得  $x = 60$ ， $y = 50$ 。故每箱咖啡的价格为 60 元。

故正确答案为 A。

67、已知“该公司员工中的男性与女性的比例为 3: 2”，可设该公司员工男性为  $3M$ ，女性为  $2M$ ，则公司员工总人数为  $5M$ ；已知“参与了献血的员工中男性与女性的比例是 7: 3”，可设参与献血的男性为  $7N$ ，女性为  $3N$ ，则参与献血的人数为  $10N$ ，可得  $\frac{\text{未参与献血的男性人数}}{\text{未参与献血的女性人数}} = \frac{3M - 7N}{2M - 3N}$  ①。根据题意“有一半的员工都参加了献血”，则  $\frac{1}{2} \times 5M = 10N$ ，得  $M = 4N$ ，则  $\frac{\text{未参与献血的男性人数}}{\text{未参与献血的女性人数}} = \frac{3M - 7N}{2M - 3N} = \frac{12N - 7N}{8N - 3N} = \frac{5N}{5N} = 1$ 。

故正确答案为 A。

68、方法一：已知“还剩下 8 棵，如果再购进 180 棵，加上剩余的正好可以给每个工人再分 4 棵”，可得工人有  $\frac{180+8}{4} = 47$  人，则原来的树苗有  $24 \times 47 + 8 = 1136$  棵，B 选项符合。

方法二：设原来一共有  $x$  棵树苗，根据题意可知，总共买了  $(x+180)$  棵树苗，工人们最后每人分到了 28 棵树苗，工人数为整数，可得  $(x+180)$  一定是 28 的倍数，代入选项只有 B 选项符合。

故正确答案为 B。

69、设规定完成时间是  $t$  天，甲乙的效率分别是  $P_{甲}$  和  $P_{乙}$ 。由于总工程量不变，根据题意可得  $P_{甲} \times t = P_{乙} \times (t+4) = 3 \times P_{甲} + P_{乙} \times t$ ，可得  $\frac{P_{甲}}{P_{乙}} = \frac{t+4}{t} = \frac{4}{3}$ ，解得  $t = 12$ 。

故正确答案为 C。

70、设每辆列车的车身长度为  $x$  米，根据题意可知，由于两辆列车时速相同，则两车车头相遇时每辆列车行驶了 180 公里，则每辆列车的时速为  $\frac{180 \text{公里}}{1 \text{小时}} = \frac{180000 \text{米}}{3600 \text{秒}} = 50 \text{米/秒}$ ；已知“经过 10 秒之后两辆车车尾分离”，则两辆列车共同行驶了 2 个车身的长度，即  $x$  米，则  $2x = 50 \times 10 \times 2$ ，解得  $x = 500$ ，则每辆列车的车身长度为 500 米。

故正确答案为 D。

71、元素组成相同，优先考虑位置规律。观察发现，有两个扇形格子里面有黑点，从图 1 到图 2，左边的小黑点顺时针移动一格，右边的小黑点逆时针移动一格。以此类推，故“？”处应由图 3 中左边小黑点顺时针移动一格，右边小黑点逆时针移动一格得到，只有 A 项符合。

故正确答案为 A。

72、元素组成相似，优先考虑样式规律。观察发现，题干图形并没有明显的运算规律。再次观察题干图形，九宫格中均由白块、阴影方块和黑块组成，考虑数数。第一个图形中，白块 7 个，阴影方块 1 个，黑块 1 个，第二个图形中，白块 6 个，阴影方块 2 个，黑块 1 个，第三个图形中，白块 5 个，阴影方块 3 个，黑块 1 个，由此可见，后一个图形与前一个图形相比，黑块数量不变，阴影方块依次递加 1 个，白块依次递减一个。应用此规律，故？处应选择白块 4 个，阴影方块 4 个，黑块 1 个的图形，只有 B 项符合。

故正确答案为 B。

73、元素组成相似，优先考虑样式规律。观察发现，第一组图形中，第一个图形与第二个图形叠加，然后左右翻转 180 度，得到第三个图形，故“？”处应由第二组图形中的前两个图形叠加后左右翻转 180 度得到，只有 A 项符合。

故正确答案为 A。

74、元素组成相同，优先考虑位置规律。观察发现，题干图形每一行折线与方块的连接位置都依次向右平

移一个方块，到达最右端的方块后再平移到同行最左侧，故“？”处应选择连接位置由前一个图形每一行都向右平移一个方块组成的图形，只有A项符合。

故正确答案为A。

75、观察图形未遮挡处可知，所有斜排都是两个白圆和两个黑圆交替出现，故被遮挡住的空白三角形最上方三角形顶点的位置（斜着第一行）应当为一个白圆，斜着第二行中依次四个圆的颜色是黑、白、白、黑，只有B项符合。

故正确答案为B。

76、元素组成不同，且无明显属性规律，优先考虑数量规律。观察发现，题干图形均有三个面，排除CD；再观察题干图形均可由一笔画成，B选项是两笔画成的图形，只有A项符合要求。

故正确答案为A。

77、元素组成不同，优先考虑属性规律。观察发现，第一组图形分别为不对称图形、轴对称图形、中心对称图形。第二组的第二幅图和第三幅图分别为轴对称图形、中心对称图形。将第一组图形规律运用到第二组，则？应该选择一个不对称图形，只有B选项符合。

故正确答案为B。

78、元素组成相同，优先考虑位置规律。观察发现，题干每幅图形内部小图形每次逆时针移动一格，且内部小图形每次均逆时针旋转90度后，得到下一个图形。则？应选择一个由题干第3图内部小图形逆时针移动一格、且小图形自身逆时针旋转90度的图形，只有C项符合。

故正确答案为C。

79、元素组成相似，优先考虑样式规律。观察发现，图形间并无明显样式规律，再次观察题干图形，图1第2行点数相减得到第1行点数，图2为第2行点数相加得到第1行点数，图3为第2行点数相减得到第1行点数。因此图形规律为每幅图形下方两格中的点数，利用第1行第2格为计算法则，计算得出第1行第1格的结果。故？处应选择符合此规律的图形，只有D选项符合。

故正确答案为D。

80、元素组成不同，且无明显属性规律，优先考虑数量规律。观察发现，题干图形“窟窿”较为明显，考虑数面。题干图形中，面数量分别为2、2、2、2，则？应该选择一个面数量为2的图形，只有C选项符合。

故正确答案为C。

81、第一步：翻译题干。

评论员甲认为最多只能顾及一个，可以翻译为：-防控疫情或-发展经济①；

评论员乙不认同评论员甲的观点，即为①的否命题，可表述为-（-防控疫情或-发展经济），即防控疫情且发展经济。

第二步：逐一分析选项。

A项：翻译为：防控疫情且发展经济，可以推出，当选；

B项：翻译为：防控疫情或发展经济，无法推出，排除；

C项：翻译为：发展经济 $\rightarrow$ 防控疫情，无法推出，排除；

D项：题干中不存在经济发展可以推动疫情防控的逻辑关系，无法推出，排除。

故正确答案为A。

82、第一步：找出论点和论据。

论点：只要时刻保持心情轻松愉快，就能够避免脱发，可以翻译为：时刻保持心情轻松愉快 $\rightarrow$ 避免脱发。

论据：精神压力增大会导致人的植物神经或者中枢神经功能发生紊乱，抑制毛发生长功能，从而导致脱发。

第二步：逐一分析选项。

A项：该项说明上述论证的缺陷在于默认了精神压力减小能够加快毛发增长，与是否保持心情愉快可以避免脱发无关，为无关项，排除；

B项：该项说明上述论证的缺陷在于忽视了不同个体精神压力承受能力不同，与是否保持心情愉快可以避免脱发无关，为无关项，排除；

C项：该项说明上述论证的缺陷在于忽视了人的心情不受自身控制，与是否保持心情愉快可以避免脱发无关，为无关项，排除；

D项：该项说明上述论证的缺陷在于默认了不存在导致脱发的其他原因，实际上是有其他原因会导致脱发，那么即使心情愉悦没有精神压力，也不能排除还会有别的原因导致脱发，所以可以作为上述论证的缺陷，能够削弱，当选。

故正确答案为D。

83、第一步：整理题干信息。

题干可翻译为：（I）领取到“义务植树参与证” $\rightarrow$ 家里有人参与义务植树活动

第二步：分析题干。

“小吴家有人参与了义务植树活动”为肯定（I）的后半部分，肯后无法得出确定性结论，因此小吴家可以领取“义务植树参与证”无法判断真假，即（1）无法判断真伪；“小李家领取了‘义务植树参与证’”为肯定（I）的前半部分，肯前必肯后，因此，小李家一定有人参与义务植树活动，即（2）为真；根据题干信息无法得知小吴家是否有人没参与义务植树活动，（3）无法判断真伪。

因此，（1）和（3）无法判断真伪，（2）必然为真。

故正确答案为C。

84、第一步：找出论点和论据。

论点：恐龙灭绝的原因是因为大量摄入有花植物。

论据：有花植物的花朵中有大量毒素，恐龙食量很大，植食性恐龙会摄入大量有花植物中毒而死，且有花植物正是从白垩纪晚期开始出现的。

否定论点力度最大，优先考虑否定论点。

第二步：逐一分析选项。

A 项：题干讨论的是恐龙是因为摄入有花植物灭绝，是恐龙灭绝的原因，而选项讨论的是肉食恐龙和植食恐龙的灭绝时间，话题不一致，无关选项，无法削弱，排除；

B 项：许多恐龙化石上出现了争斗的痕迹，指出许多恐龙经历过争斗，但无法知道争斗是否会导致恐龙灭绝，不明确选项，无法削弱，排除；

C 项：在有花植物出现之前，恐龙数量已经显著减少，指出恐龙没有摄入有花植物就已经开始灭绝，因此恐龙灭绝不是因为摄入有花植物，否定论点，当选；

D 项：白垩纪晚期有些恐龙群发生了传染病，指出有恐龙群经历过传染病侵害，但无法知道传染病是否会造成恐龙死亡甚至导致恐龙灭绝，不明确选项，无法削弱，排除。

故正确答案为 C。

85、第一步：找出论点和论据。

论点：消费欲激发了这一部分人的工作热情，并最终导致了他们拥有更高的收入水平。

论据：有研究表明，平均每年在旅游度假上消费超过 10000 元的人，月收入要显著高于不在旅游度假上消费的人。

论点与论据间存在明显的因果关系，考虑因果倒置和他因削弱。

第二步：逐一判断选项。

A 项：在旅游度假消费超过 10000 元的人占比小，但和论点所讨论的高收入水平并无明显关系，排除；

B 项：消费欲很大程度上由收入水平决定，而论点提到的是消费欲导致了高收入水平，属于因果倒置，指出了题干的论证漏洞，当选；

C 项：和消费欲强的人群选择度假并没有任何关系，无关选项，排除；

D 项：工作热情是获得高收入的必要条件，可以翻译为：高收入→工作热情，但是，因果关系是不能用推出表示的，D 项并没有指出题干的论证漏洞，排除。

故正确答案为 B。

86、第一步：找出论点和论据。

论点：就算孩子认知水平比同龄人高，也最好不要提早入学和跳级。

论据：一项权威研究分析了 104 万儿童的数据后发现，研究对象中年龄最小的孩子被诊断出多动症和抑郁的概率分别是年龄最大孩子的 1.4 倍和 1.3 倍。

第二步：逐一判断选项。

A项：论点讨论的是认知水平高也不要提前入学和跳级，因此与是否为特殊学校无关，无法加强，排除；

B项：论点讨论的是不要提早入学和跳级，选取的样本应是同年级学生，选项补充论据，可以加强，当选；

C项：104万样本都进行多动症和抑郁的诊断不合常理，且与认知水平无明显关系，无法加强，排除；

D项：低年龄孩子的认知水平和同龄人的高低与多动症和抑郁的概率无关，无法加强，排除。

故正确答案为B。

87、第一步：找出论点和论据。

论点：洗车的污水不应该被制止。

论据：往江河湖海排污水、往大气中排污染气体的厂家没有被制止，而且洗车的污水与工业污染相比不算什么。

论点论据都是讨论洗车污水对环境的污染问题，话题一致，要削弱观点，优先考虑削弱论点。

第二步：逐一分析选项。

A项：选项讨论的是工业污染和经济代价，题干没有提及经济代价，话题不一致，排除；

B项：选项讨论的任何污染行为都应该被制止，否定了论点，保留；

C项：选项讨论的是生活污染的破坏不亚于工业污染，否定了论据，可以削弱，保留；

D项：选项讨论的是当地政府排查违法企业的行为，与题干话题不一致，排除。

二级辨析：比较B、C两项。B项否定了论点，力度最强，而C项只是否定了论据，削弱力度不如B项否定论点强，所以B项更优。

故正确答案为B。

88、第一步：分析题干论证方式。

大多数真菌→依靠孢子繁殖，有的真菌→出芽生殖，因此，¬所有真菌→依靠孢子繁殖。

第二步：逐一分析选项。

A项：软体动物→无脊椎动物，章鱼→软体动物，因此，章鱼→无脊椎动物，与题干论证方式不一致，排除；

B项：细菌→单细胞生物，病毒→¬完整的细胞结构，因此，病毒→¬细菌，与题干论证方式不一致，排除；

C项：大多数杉树→常绿乔木，落羽杉→落叶乔木，因此，¬所有的杉树→常绿乔木，与题干论证方式一致，当选；

D项：大多数鸟→会飞，鸵鸟和企鹅→¬会飞，因此，鸵鸟和企鹅→¬鸟类，与题干论证方式不一致，排除。

故正确答案为C。

89、第一步：找出论点和论据。

论点：教育机构不应该把线下课强行转到线上却不退差价。

论据：线下课与线上课的效果差异很大。

论点讨论的是教育机构把线下课转到线上却不退差价，论据讨论的是上课效果，论据论点话题不一致，本题为选非题，因此加强可以考虑搭桥、加强论点、补充论据等方式。

第二步：逐一分析选项。

A项：论据讨论的是线下课与线上课的差异，论点讨论的是应不应该退差价，选项讨论的是目前是否恢复线下课，话题不一致，为无关项，当选；

B项：选项说明线上课无人监管，效果不好，补充论据，可以加强，排除；

C项：选项说明线上课互动性不强，效果不好，补充论据，可以加强，排除；

D项：选项说明线下课程费用比线上费用贵，两者间存在差价，补充论据，可以加强，排除。

本题为选非题，故正确答案为A。

90、第一步：翻译题干。

题干的论证结构为：科学→研究结论能被实验验证，用经济学举例，研究结论能被实验验证→科学，属于肯后推肯前。

第二步：逐一分析选项。

A项：该项论证结构为：咖啡爱好者→知道蓝山咖啡，用分辨不出蓝山咖啡的人举例，¬分辨蓝山咖啡→¬咖啡爱好者，属于否后推否前，与题干的推理方式不同，排除；

B项：该项论证结构为：城市的景观→自身营商环境的最佳展示，用不够现代大气的地方举例，¬现代大气→¬商业繁荣，属于否前推否后，与题干的推理方式不同，排除；

C项：该项论证结构为：以会员价购买→成为本店会员，成为本店会员→享受本店商品会员价，属于肯后推肯前，与题干的推理方式相同，当选；

D项：该项论证结构为：在国际赛事中获奖→特别奖励，用王老师举例，¬在国际赛事中获奖→¬特别奖励，属于否前推否后，与题干的推理方式不同，排除。

故正确答案为C。

91、根据题干“2015~2019年，···年均增长约···万元”，可判定本题为年均增长量问题。定位文字材料第一段可得，农业总产值由2015年的12.92亿元增加至2019年的42.46亿元。故2015~2019年，A市

农业总产值年均增长量  $= \frac{\text{现期} - \text{基期}}{\text{年份差}} = \frac{424600 - 129200}{4} = 73850$  万元，与C项最接近。

故正确答案为 C。

92、根据题干“...增幅最大的是”，可判定本题为一般增长率问题。定位第一个表格材料可得 2015

年和 2019 年 A 市各农业产业产值，根据增长率  $= \frac{\text{现期} - \text{基期}}{\text{基期}}$ ，选项各产业增幅分别为：种植业： $\frac{117928 - 37842}{37842} \approx \frac{80000}{37842} = 2^+$ ；林业： $\frac{1750 - 1307}{1307} = \frac{443}{1307} < 1$ ；牧业： $\frac{25464 - 26292}{26292} = \frac{-828}{26292} < 0$ ；渔业： $\frac{259541 - 16352}{16352} \approx \frac{243000}{16352} = 10^+$ 。比较可知，渔业产值增幅最大。

故正确答案为 D。

93、定位第二个表格材料第 5 行可知，其他作物播种面积最大的是 2019 年，面积为 149192 亩；最小的是 2016 年，面积为 65504 亩，则题目所求  $= 149192 - 65504 = 83000^+$  亩，只有 B 选项满足。

故正确答案为 B。

94、根据题干“2015-2019 年，...占...比重最大”，可判定本题为现期比重问题。定位第一个表

格材料第 2、5 行，根据  $\text{比重} = \frac{\text{部分}}{\text{总体}}$ ，选项四个年份的牧业占农业总产值的比重分别为：2015 年： $\frac{26292}{129156} \approx 0.2^+$ ；2016 年： $\frac{23422}{159115}$ ， $23422 < 26292$ 、 $159115 > 129156$ ，根据速算技巧可得， $\frac{23422}{159115} < \frac{26292}{129156}$ ；2018 年： $\frac{29013}{188609} \approx 0.1^+$ ；2019 年： $\frac{25464}{424606}$ ， $25464 < 26292$ 、 $424606 > 129156$ ，根据速算技巧可得， $\frac{25464}{424606} < \frac{26292}{129156}$ 。因此牧业占比最大的是 2015 年。

故正确答案为 A。

95、A 项：定位第二个表格材料第 4 行，根据  $\text{增长率} = \frac{\text{现期} - \text{基期}}{\text{基期}}$ ，A 市经济作物播种面积各年份的增长率分别为：2016 年： $\frac{6702 - 513}{513} = \frac{6189}{513} \approx 1200\%$ ；2017 年： $\frac{2243 - 6702}{6702} = \frac{-4459}{6702} < 0$ ；2018 年： $\frac{5169 - 2243}{2243} = \frac{2926}{2243} \approx 130\%$ ；2019 年： $\frac{5267 - 5169}{5169} = \frac{98}{5169} \approx 2\%$ 。因此经济作物播种面积增长最快的是 2016 年，正确；

B 项：定位第一个表格材料可知，2017 年 A 市渔业产值为 98749 万元，农业总产值为 190942 万元，代入  $\text{比重} = \frac{\text{部分}}{\text{整体}} = \frac{98749}{190942} \approx 51.7\% > 50\%$ ，正确；

C 项：定位第二个表格材料第 2 行，2015-2019 年 A 市农作物总播种面积先减少（2016 年 72358 亩小于 2015 年 73775 亩），随后逐年增加，正确；

D 项：定位第二个表格材料第 2、3 行，2018 年 A 市粮食作物播种面积占农作物总播种面积的比例： $\frac{34718}{179010} \approx \frac{34718}{180000} = 0.19^+$ ；2019 年： $\frac{34813}{189272} \approx \frac{34813}{190000} = 0.18^+$ ，因此 2018 年占比大于 2019 年，不是逐年上升，错误。

本题为选非题，故正确答案为 D。



96、根据题干“该单位以下支出项目中，与预算数相比 2018 年决算数增幅最大的是”，可判定本题为一般增长率计算问题。定位图表，可知选项中各个支出项目 2018 年预算数、决算数的量，根据增长率公式：增长率（增幅） $=\frac{\text{现期量}-\text{基期量}}{\text{基期量}}$ ，可计算出：一般公共服务增幅 $=\frac{5204-4708}{4708}=\frac{496}{4708}\approx 11\%$ ；社会保障和就业增幅 $=\frac{1349-565}{565}=\frac{784}{565}\approx 139\%$ ；节能环保支出增幅 $=\frac{99-20}{20}=\frac{79}{20}=395\%$ ；住房保障支出增幅 $=\frac{941-292}{292}=\frac{649}{292}\approx 223\%$ 。综上可得，节能环保支出增幅最大。

故正确答案为 C。

97、直接定位统计图各项目预算支出细项，比较 2018 和 2019 预算数，发现 2019 年有：行政运行、一般行政管理事务、专项普查活动、事业运行、其他统计信息事务支出、培训支出、财政对其他社会基金的补助、机关事业单位基本保险与缴费、机关事业单位职业年金缴费、行政单位医疗、事业单位医疗、其他污染减排支出、住房公积金、购房补贴，共 14 个细项的预算数高于上年。

故正确答案为 B。

98、根据题干“下列选项最可能准确反映该项目情况的是”，且图表给出了各项支出的具体数据，可判定为现期比重问题。

A 项图形表示 2018 年预算支出大项，定位图表可知支出大项共有六项，A 项图形中只有 5 个部分，不能反映 2018 年预算支出大项，排除。

B 项图形表示 2019 年医疗卫生预算数，定位图表 2019 年预算数，可知医疗卫生为 80 万元，其中行政单位医疗卫生支出数为 50 万元，事业单位医疗卫生支出为 30 万元，较少部分的事业单位医疗卫生支出占比为 $\frac{3}{8}$ ，而 B 项中较少部分占比接近 $\frac{1}{4}$ ，排除。

C 项图形表示 2018 年社会保障和就业支出预算数，定位图表可知，财政对其他社会基金的补助 2，事业单位离退休 1，相对于总体 565 而言占比太小，忽略不计，在饼图中无法体现，所以只显示为 3 个部分。而这 3 个部分的值分别为 126、315、121，其中 126 和 121 大小相当，315 大约为他们的 2 倍多，符合图形描述，正确。

D 项为 2019 年住房保障支出预算数，定位图表可知，2019 年住房保障支出为 471 万元，住房公积金支出为 311 万元，购房补贴 160 万元，前者约为后者的 2 倍，而图形中两部分图形比重接近，排除。

故正确答案为 C。

99、根据题干“该单位六个大项中……其 2019 年预算数同比增长……”，结合选项，可判定为一般增长率问题。定位表格，计算 2018 年决算数相较预算数的增量分别为：一般公共服务增量 $=5204-4708=496$ 万元；教育支出增量 $=256-423<0$ ；社会保险和就业增量 $=1349-565=784$ 万元；医疗卫生增量 $=70-67=3$ 万元；节能环保支出增量 $=99-20=79$ 万元；住房保障支出增量 $=941-292=649$ 万元。其中增加最多的大项为社会

保险和就业支出，则 2019 年社会保险和就业支出同比增长率  $= \frac{\text{现期量} - \text{基期量}}{\text{基期量}} = \frac{578 - 565}{565} \approx 2.3\%$ 。

故正确答案为 A。

100、A 项：定位统计表六个支出大项部分，计算 2019 年预算数相较 2018 年的增量：一般公共服务增量  $= 6903 - 4708 = 2195$  万元；教育支出增量  $= 798 - 423 = 375$  万元；社会保险和就业增量  $= 578 - 565 = 13$  万元；医疗卫生增量  $= 80 - 67 = 13$  万元；节能环保支出增量  $= 99 - 20 = 79$  万元；住房保障支出增量  $= 941 - 292 = 649$  万元。可知一般公共服务项目增加量最多，正确；

B 项：定位统计表可知，2018 年教育支出预算为 423 万元，预算总量为 6074 万元，占比  $= \frac{423}{6074} \approx 7\%$ ；2019 年教育支出预算为 798 万元，预算总量为 8928 万元，占比  $= \frac{798}{8928} \approx 9\%$ ，较上年比重增加了，正确；

C 项：定位统计表 2018 年决算数列与 2019 年预算数列，比较 2018 年决算与 2019 年预算数值，一般公共服务：5204 < 6903；教育支出：256 < 798；社会保险和就业：1349 > 578；医疗卫生：70 < 80；节能环保支出：99 = 99；住房保障支出：941 > 471。只有社会保障和就业、住房保障支出两项的预算数低于 2018 年决算数，正确；

D 项：定位统计表住房保障支出预算数部分，可知 2019 年住房保障支出预算增量  $= 471 - 292 = 179$  万元，其中住房公积金增量  $= 311 - 139 = 172$  万元，购房补贴增量  $= 160 - 153 = 7$  万元，可知，保障支出预算数的增长主要出现在住房公积金中，错误。

本题为选非题，故正确答案为 D。



美好的事情即将发生...

something wonderful is about to happen